

مذكرة صف خامس الترم الثاني للعام الدراسي 2018 / 2019 (ندا ماهر)

2019 /...../.....

تاريخ

الشعبة.....

الصف

.....

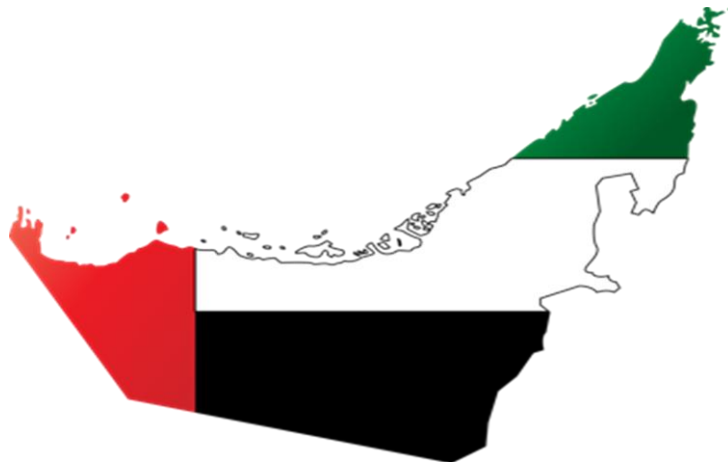
اسم الطالب



Al
M
a
n
a
r
a
P
r
i
v
a
t
e
S
c
h
o
o
l

م
ذ
ر
ة
ال
م
ن
ار
ة
ال
ش
ا
م
خ
ة

خامس اجتماعيات
الترم الثاني
الندا ماهر



الوحدة الأولى : خليجنا واحد

أولاً : مجلس التعاون الخليجي طبيعياً

*المفاهيم (المصطلحات) الدرس :

- 1-الموقع الفلكي : هو الموقع بالنسبة لخطوط الطول و دوائر العرض
- 2-الموقع النسبي : هو الموقع بالنسبة لعالم والقارة باستخدام الجهات الأصلية
- 3-التضاريس : هي أشكال سطح الأرض (الجبال – الهضاب – الصحاري)
- 4-الجبال الالتوائية : جبال تكونت بفعل حركات الطي و الالتواء
- 5- الجبال الانكسارية : جبال تكونت بفعل الانكسارات و الصدوع
- 6- الهضاب : أرض مرتفعة شبه مستوية وأقل من الجبل
- 7- السهول : أرض منخفضة و مستوية
- 8- السهول الساحلية : تجاور المسطحات المائية
- 9- السهول الفيضية : كونتها إرسابات الأودية
- 10- المناخ : حالة الجو في فترة زمنية طويلة
- 11- النبات الطبيعي : نباتات تنمو من تلقاء نفسها دون تدخل الإنسان
- 12-النباتات المعمرة : نباتات تعيش لفترات زمنية طويلة
- 13- النباتات الحولية : نباتات تظهر عقب سقوط الأمطار

- 1-تمتد دول مجلس التعاون الخليجي بين دائرتي عرض (16- 32) شمال خط الاستواء وبين خطي طول (35-60) شرق خط جرينتش .
- 2- تقع دول مجلس التعاون الخليجي في وسط قارات العالم القديم (آسيا- أفريقيا – أوروبا) و في جنوب غرب آسيا .

3- تبلغ مساحة دول مجلس التعاون الخليجي (2.6) مليون كم

4- أكبر الدول مساحة السعودية (2.2) مليون كم و أصغرها البحرين

5- ترتيب الدول من الأكبر للأصغر مساحة :

(السعودية - سلطنة عمان - الإمارات - الكويت - قطر - البحرين)

6- أهمية دول مجلس التعاون الخليجي :

***أهمية الحضارية**
1- حضارة ماجان في الإمارات
2- فليكا في الكويت
3- دلمون في البحرين

***أهمية الاقتصادية**
1- مصايد اللؤلؤ و المرجان
2- النفط
3- الثروات المعدنية

***أهمية استراتيجية**
1- الإشراف على مسطحات مائية هامة
*الخليج العربي
*خليج عمان
*مضيق هرمز

***أهمية دينية**
1- المسجد الحرام في مكة
2- المسجد النبوي في المدينة المنورة

الجبال	الهضاب	الصحاري	أودية جافة	سهول	واحات
*عسير *الحجاز *الأخضر	*نجد *النفود	*النفود *الربع الخالي	*بيشه *الدواسر *الرمه *سيجي *سمايل	*الخليج العربي *خليج عمان *البحر الأحمر *الإحساء *الباطنه	*العين *حائل *ليوا

وجه المقارنة	جبال البحر الأحمر	جبال عمان
التكوين	انكسارية	التوائية
الموقع الجغرافي	غرب السعودية على البحر الأحمر	جنوب شرق دول مجلس التعاون الخليجي
القمة الجبلية	عسير - الحجاز	الجبل الأخضر
الأودية الجافة	الدواسر - بيشه	سمايل

وجه المقارنة	السهول الفيضية	السهول الساحلية
التعريف	كونتها إرسابات الأودية	تجاور المسطحات المائية
أمثلة	*الدواسر *سيجي *بيشه *سمايل	*الخليج العربي *البحر الأحمر *خليج عمان

*تقع دول مجلس التعاون ضمن المناخ

الصحراوي الحار

*العوامل المؤثرة في المناخ (الموقع بالنسبة لدوائر العرض - التضاريس - توزيع اليابس و الماء
*عناصر المناخ (الحرارة - الرياح - الأمطار)

الأمطار	الرياح	الحرارة
*قلة الأمطار *تسقط في فصل الشتاء *تسقط في الصيف على الأجزاء الجنوبية الغربية من السعودية و عسير	*رياح دائمة (الشمالية الغربية *الرياح الصيفية الممطرة *الرياح الشتوية ممطرة *الرياح المحلية (الكوس - الطوز - السهيلي)	*ارتفاع الحرارة صيفاً *زيادة الرطوبة في المناطق الساحلية *انخفاض الحرارة شتاءً

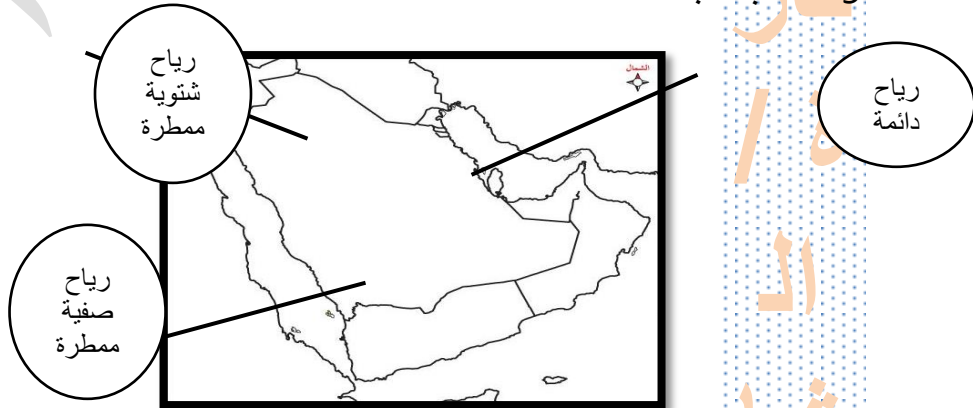
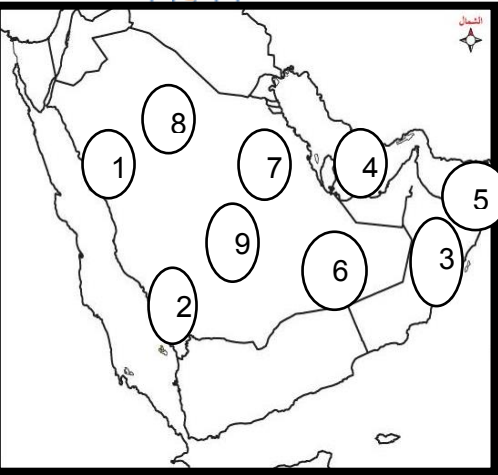
*النباتات
مثل

النباتات الحولية	النباتات المعمرة	وجه المقارنة
تظهر بعد سقوط الأمطار	نباتات توجد لفترات طويلة	المفهوم (التعريف)
*الثمام *الحميض	*السدر *السمر * الغاف * النخيل *الصبار	الموقع الجغرافي

المائية

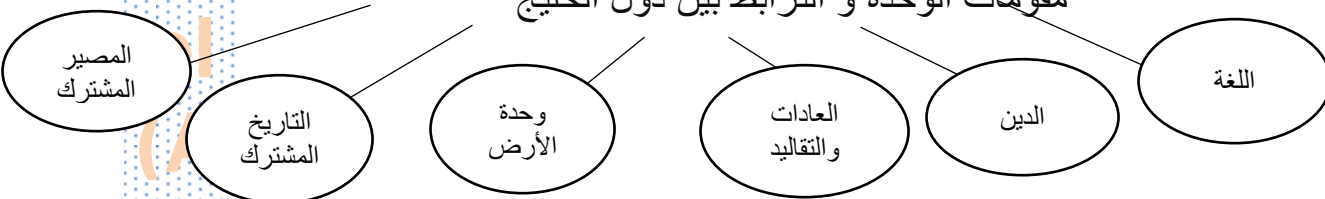
*المانجروف
*النباتات الصحراوية أكثر النباتات انتشاراً

- 1- جبال الحجاز
- 2- جبال عسير
- 3- الجبل الأخضر
- 4- الخليج العربي
- 5- خليج عمان
- 6- صحراء الربع الخالي
- 7- سهول الأحساء
- 8- صحراء النفود
- 9- هضبة نجد



ثانياً : مجلس التعاون الخليجي تاريخياً

*مقومات الوحدة و الترابط بين دول الخليج



*خطوات قيام دول مجلس التعاون الخليجي :

- 1-اجتماع الشيخ زايد بن سلطان آل نهيان و الشيخ جابر الأحمد الصباح رحمهما الله .
- 2- اجتماع وزراء الخارجية لدول مجلس التعاون في الرياض (4 فبراير 1981) وتم فيها توقيع وثيقة إعلان التعاون لدول الخليج
- 3- أول قمة لدول مجلس التعاون في أبوظبي في (25 مايو 1981)

*أهداف مجلس التعاون الخليجي :

- 1- تحقيق الترابط بين الدول
- 2- إقامة المشاريع المشتركة و التقدم العلمي
- 3- وضع أنظمة متشابهة في (الاقتصاد – الإعلام – السياحة – الثقافة – الصحة – التعليم)

*إنجازات مجلس التعاون الخليجي :

- 1- العمل على توحيد الأنظمة الاقتصادية
- 2- بناء قوة درع الجزيرة
- 3- التعاون الأمني
- 4- تنسيق التعاون في (الاقتصاد – الإعلام – الثقافة – الصحة – التعليم)
- 5- الإتفاق على مشروع الربط المائي بين الدول
- 6- تنسيق المواقف نحو القضايا العربية و الإسلامية مثل :

*المساهمة في إنهاء الحرب العراقية الإيرانية بالطرق السلمية

*المساهمة في تحرير الكويت * دعم القضية الفلسطينية * نصره القضايا في (الصومال و اليمن)

*الهيكل التنظيمي لمجلس التعاون الخليجي :

1-المجلس الأعلى:

السلطة العليا للمجلس ويتكون من
رؤساء الدول
رئاسته دورية

2-المجلس الوزاري:

يتكون من وزراء الخارجية أو من
ينوب عنهم
يعقد الاجتماع كل 3 شهور

3- الأمانة العامة :

يتكون من أمين عام و مساعدين
يعين المجلس الأمين العام كل 3
سنوات قابلة للتجديد مرة واحدة

السكان في دول مجلس التعاون الخليجي

*المفاهيم (المصطلحات) الدرس :

- 1-النمو السكاني الطبيعي : الفرق بين المواليد و الوفيات
- 2-النمو السكاني الغير طبيعي (الهجرة): الزيادة الناتجة عن هجرة السكان داخلياً و خارجياً
- 3-الكثافة السكانية : عدد السكان مقسومة على المساحة الكلية للدولة
- 4-التركيب السكاني : الخصائص السكانية (العمر – النوع – التعليم – حجم الأسرة)
- 5- التركيب العمري للسكان: توزيع السكان حسب فئات العمر (صغار – شباب – كبار السن)
- 6- التركيب النوعي للسكان : توزيع السكان إلى ذكور وإناث *ملحوظة : الإطلاع على الخريطة صفحة (38)

أسباب الهجرة
1-تطور المواصلات
2- فرص العمل
3- تطور الاقتصاد

أسباب انخفاض الوفيات
1-الرعاية الصحية
2- ارتفاع مستوى المعيشة
3- الأمومة و الطفولة

أسباب الزيادة السكانية
1-الزيادة الطبيعية
2- الزيادة الغير طبيعية

أهمية دراسة السكان
1-معرفة عدد السكان
2- حجم العمالة
3- وضع خطط التنمية

مناطق الزيادة السكان
*الخليج العربي
*بحر عمان *الجبل الأخضر
*جبال عسير
*واحات (العين – ليوا – بريدة)
*مدن أبوظبي – الكويت - الرياض

مناطق قليلة السكان
*صحراء الربع الخالي
*صحراء الدهناء
*صحراء النفود

عوامل بشرية تؤثر في توزيع السكان
*الخدمات * الحرفة
*فرص العمل
* المواصلات

عوامل طبيعية تؤثر في توزيع السكان
*المناخ
* التضاريس
* التربة * المياه

أسباب قلة السكانية
1-في صحاري(الربع الخالي – الدهناء - النفود)
*قلة المياه * ارتفاع الحرارة
2- جبال البحر الأحمر :
*ارتفاع الجبال * قلة المواصلات

أسباب الزيادة السكانية
في واحات (ليوا – العين - بريدة)
*توافر المياه
*توافر الأراضي الزراعية

أسباب الزيادة السكانية
في (جبال عسير – الجبل الاخضر)
*توافر المواصلات
*توافر الأراضي الزراعية
*اعتدال الحرارة

المشكلات السكانية
1- التلوث : الهواء والماء
2- المشكلات الاجتماعية
مثل : *تغير العادات و التقاليد
*ضعف اللغة العربية و اللهجة المحلية

الإجراءات لتقليل الزيادة السكانية
1-نشر الوعي البيئي
2- الاهتمام بالمشاريع
3- توحيد القوانين لتنظيم الهجرة الوافدة
4- فرض الغرامات على المخالفين لقوانين حماية البيئة

التركيب النوعي
1-نسبة الذكور (63%)
2- نسبة الإناث (37%)
بسبب : ارتفاع نسبة العمالة الوافدة من الذكور

التركيب العمري
1-نسبة الشباب (74%)
2- نسبة كبار وصغار السن (26%)
بسبب ارتفاع نسبة العمالة الوافدة من الشباب

أسباب زيادة السكانية
في المدن (أبوظبي – الرياض – الكويت)
*توافر المواصلات
*توافر فرص العمل
* توافر الخدمات

الوحدة الثانية : زايد و البيئة

ألقاب الشيخ زايد رحمه الله
*الصقار الأول *الباندا الذهبية
*رجل البيئة *فارس الصحراء
*رجل العصر *صانع معجزة
الخضرة

هوايات الشيخ زايد رحمه الله
*الفروسية
* ركوب الخيل
*الصيد بالصقور * الرماية

علمني زايد رحمه الله
*حب العمل * التواضع
*التسامح * الالتزام
* فعل الخير

بصمة (انجازات) الشيخ زايد رحمه الله في البيئة :
1- إقامة المحميات الطبيعية
2- أول حديقة للحيوان في العين
3- مركز البحوث الوطني لحماية طائر الحبار الآسيوي
4- محمية صير بن ياس

كيف حافظ الشيخ زايد رحمه الله على البيئة أثناء الصيد:
1- معالجة الطيور
2- الاصطياد من أماكن متنوعة
3- الصيد على حسب الاحتياج

جهود الشيخ زايد رحمه الله في البيئة الإماراتية :
1- حماية الحيوانات من الإنقراض :
*حماية المها العربي *إقامة المحميات
2- إدخال أنواع مختلفة من النباتات :
*إنشاء الحدائق * زراعة أشجار القرم



المحميات الطبيعية

وزارة التغير المناخي والبيئة

المركز الوطني لبحوث الطيور

*جوائز الشيخ زايد رحمه الله في مجال البيئة :

العام	اسم المنظمة التي منحتها	اسم الجائزة
1985	المنظمة الدولية للأجانب في جنيف	1- الوثيقة الذهبية
1993	جامعة الدول العربية	2- وشاح الإنماء و التنمية
1995	جمعية المؤرخين المغاربة	3- الوسام الذهبي للمها العربي
1996	منظمة العمل العربية	4- درع العمل
1998 - 1988	هيئة رجل العام في باريس	5- رجل العام
1999	جائزة دبي الدولية للقرآن الكريم	6- شخصية العالم الإسلامي
2001	منظمة الأغذية و الزراعة (الفاو)	7- ميدالية اليوم العالمي للأغذية
2005	برنامج الأمم المتحدة للبيئة	8- أبطال الأرض

*المحميات الطبيعية : مساحة من الأرض مائية أو برية تحمي أنواع من النباتات و الحيوانات المهددة بالانقراض

*الحياة الفطرية : كل ما يعيش على الأرض من نباتات و طيور و حيوانات

أهمية المحميات الطبيعية :

- 1- حماية الحيوانات و النباتات من الإنقراض
- 2- تطوير السياحة البيئية
- 3- زيادة الوعي بأهمية المحميات الطبيعية

الأعمال التي تدمر المحميات الطبيعية:

- 1- صيد الكائنات البرية و البحرية
- 2- إقامة المباني و شق الطرق
- 3- تلوث التربة و الماء و الهواء

أمثلة على المحميات البحرية :

- 1- محمية الوثبة
- 2- محمية صير بو نعير
- 3- محميات الفجيرة البحرية :
*الفقيت * البدية *ضدنا *العقة

أمثلة على المحميات البرية :

- 1- رأس الخور
- 2- صير بن ياس

جهود الدولة في الحفاظ على الحياة الفطرية :

- 1- إنشاء المحميات الطبيعية
- 2- وضع القوانين لحماية الكائنات
- 3- فرض العقوبات على المخالفين
- 4- توعية السكان بأهمية المحميات الطبيعية
- 5- إعداد برامج لتنمية المحميات الطبيعية
- 7- تبادل الخبرات مع الهيئات الدولية

عدد المحميات الطبيعية في الدولة (35) محمية منها :
(15) محمية بحرية
(20) محمية برية

اسم المحمية	نوعها	موقعها (الإمارة)	خصائصها
الوثبة	بحرية	أبو ظبي	*تضم بحيرات طبيعية و اصطناعية *مكان آمن للطيور المهاجرة
صير بو نعير	بحرية	الشارقة	*تتميز بتنوع النباتات و الطيور البحرية و الشعب المرجانية
محميات الفجيرة البحرية (الفقيت - ضدنا - البدية -العقة)	بحرية	الفجيرة (الساحل الشرقي)	*الحفاظ على الأسماك النادرة * حماية الشعب المرجانية * جذب سياحي لهواة الغوص و السباحة *المهتمين بالأبحاث البحرية
رأس الخور	برية	دبي	*مكان للطيور المهاجرة * تتميز بوجود المسطحات المالحة و الطينية *أشجار القرم
وادي الوريعة	البحرية	الفجيرة	*ملجأ للحيوانات النادرة و المهددة بالانقراض *مقصد للسياح



صير بن ياس	برية	أبو ظبي	*وجود سلاسل جبلية *أضيفت لها جزيرة صناعية (الجزيرة الخضراء) *وجود أشجار السدر و الطلح شجيرات الأراك و الحيوانات المهددة بالانقراض و وجود حيوانات متنوعة مثل (المها العربي - الغزال العربي - الظبي وسميت أبو ظبي نسبة له - الزراف *الطيور مثل الحباري و النعام و الفلامنجو
------------	------	---------	--

*مصادر الطاقة (النووية - الشمسية)

*الطاقة النووية : الطاقة الناتجة من معدن اليورانيوم الموجود في باطن الأرض

مبادرة شمس دبي :
***هدفها :** استخدام مصادر طاقة متجددة ونظيفة
***أهميتها :**
1- توفير طاقة نظيفة
2- خفض تكاليف إنتاج الطاقة
3- تخزين الطاقة الفائضة

مشاريع الطاقة الشمسية في الإمارات:
1- محطة شمس (1)
2- مجمع محمد بن راشد آل مكتوم للطاقة الشمسية
3- مبادرة شمس دبي
4- مبادرة شمس دبي لمنطقة حتا

أهداف استخدام الإمارات للطاقة النووية
1- تنوع مصادر الطاقة
2- توفير فرص العمل
3- تقليل التلوث

مزايا الطاقة النووية :
1- أمانة
2- صديقة للبيئة
3- تنتج كميات كبيرة من الكهرباء

محطة شمس (1):
*أكبر المشاريع لإنتاج الطاقة الكهربائية من حرارة الشمس و ليس ضوء الشمس
***هدفها :**
1- توفير 7% من احتياجات أبو ظبي من الطاقة
2- تنوع مصادر الطاقة
3- قلة التلوث

مجمع محمد بن راشد آل مكتوم للطاقة الشمسية :
***موقعها :** دبي
***هدفها :**
1- ضمان بيئة صحية للعيش و العمل و السياحة

أسباب اختيار منطقة براكة كمحطة للطاقة النووية :
1- البعد عن المساكن
2- توافر المياه 3- خلوها من الزلازل
3- القرب من شبكات الكهرباء

مؤسسة الإمارات للطاقة النووية
***هدفها :** تطوير محطات الطاقة النووية في الإمارات
***موقعها :** في إمارة أبو ظبي منطقة الظفرة (براكة)
***عام النشأة :** من عام (2012) إلى (2020)

وقود المركبات : (* الشاحن الخضر * الغاز الطبيعي *

الشاحن الأخضر :

*** مفهومها :** محطات لشحن السيارات بالطاقة الكهربائية

*** موقعها :** (دبي)

*** أهدافها :**

- 1- الحفاظ على البيئة
- 2- قلة التلوث 3- توفير الطاقة

الغاز الطبيعي وقود السيارات :

*** استخدامها كوقود للسيارات بدل النفط**

- 1- *** مزاياه :** أقل تلوث
- 2- أكثر استخدام 3- أكثر أمان

تدوير النفايات :

*** مفهومها :** تحويل المخلفات إلى فوائد بيئية

*** مراحلها :**

- 1- جمع النفايات
- 2- فرزها
- 3- تشكيل منتجات جديدة
- 4- تغليف وتوزيع المنتجات

*** فوائدها :**

- 1- حماية الموارد الطبيعية
- 2- قلة التلوث 3- قلة تراكم النفايات

أسباب ارتفاع إعادة التدوير في الإمارات :

- 1- زيادة المشاريع الاقتصادية
- 2- زيادة استهلاك السكان
- 3- ضعف ثقافة تقليل الاستهلاك

تدوير النفايات الإلكترونية في دبي :

*** التخلص من النفايات الإلكترونية و تحويلها ل مواد خام تدخل في صناعات مختلفة**

الوحدة الثالثة : ومضات من الدستور

*الدستور : مجموعة من القواعد والقوانين التي تحدد نظام الحكم في الدولة

*الأمن : قدرة الدولة في الحفاظ على حدودها

*الأسرة : الخلية الأولى للمجتمع مجموعة الأفراد يعيشون في منزل مشترك و ترابطهم العاطفي

*الحقوق : كل ما يجب أن يحصل عليه الفرد

*الواجبات : التزام الفرد تجاه المجتمع و الوطن

*أصحاب الهمم : فئة ذوي الإعاقة (الاحتياجات الخاصة)

*يوم المرأة الإماراتي (28 أغسطس)

مجالات المساواة بين المرأة

و الرجل في الإمارات :

- 1- أمام القانون 2- الوظائف
- 3- استخدام المرافق
- 4- التكاليف و الأعباء

حصلت الإمارات على المراكز التالية

عالمياً :

- 1- الأول :في محو الأمية
- 2- الثالث : المساواة في الأجور
- 3- الثالث : التوازن بين المرأة الرجل

أهمية الأمن :

- 1- العدل 2- عدم الخوف
- 3- أساس التنمية
- 4- السلام

وظيفة الأسرة :

- 1- الراحة 2- الرحمة
- 3- تعلم القيم الحميدة
- 4- الاستقرار 5- الثقة بالنفس

حقوق يكفلها الدستور

- 1- العلاج 2- التعليم
- 3- الأمن
- 4- المرافق العامة
- 5- أماكن الراحة

حقوق يكفلها

- الأسرة :
- 1- المسكن
 - 2- الغذاء
 - 3- الرعاية
 - 4- التربية الصالحة

واجبات الفرد :

- 1- اتجاه الدين
- 2- تجاه الأسرة
- 3- تجاه الوطن
- 4- تجاه المدرسة

أنواع الأمن :

- 1- عسكري 2- سياسي
- 3- الاقتصادي
- 4- البيئي
- 5- الاجتماعي

حقوق أصحاب

- الهمم :
- 1- التعليم
 - 2- العمل
 - 3- الرعاية الصحية
 - 5- النقل

نوع الأمن	خصائصه
العسكري	القدرات الدفاعية للدولة لحماية نفسها
السياسي	*السلام والاستقرار الداخلي للدولة
الاقتصادي	*توفير الموارد الاقتصادية و المادية * تحقيق الرفاهية
الاجتماعي	*الاستقرار الداخلي بين أبناء الدولة
البيئي	*المحافظة على البيئة

الاتجاهات	واجبات الفرد
تجاه ديني	*آداء الفرائض *معاملة الناس بالحسنى
تجاه الوطن	*حماية الوطن * احترام القوانين *حماية الممتلكات
تجاه أسرتي	*الاحسان للوالدين * تقديم المساعدة *المشاركة في أعمال المنزل
تجاه مدرستي	*احترام قوانين المدرسة * المحافظة على ممتلكات *المحافظة على النظافة

***مظاهر الاهتمام بالأسرة الإماراتية :**

1- تحت رعاية الشيخ محمد بن راشد آل مكتوم حفظه الله :

*إطلاق الحملة الوطنية (أسرتنا متماسكة 2021)

2- الشيخة فاطمة بنت مبارك حفظها الله :

*التركيز على دور الأسرة في التربية و إعداد الاجيال * توعية الأسرة بتحقيق الاستقرار

3- وزارة الشباب و التنمية الاجتماعية :

*زيادة دخل الأسرة الإماراتية * المحافظة على التراث * تنمية الحرف اليدوية



يوم المرأة
الإماراتي



إعادة التدوير



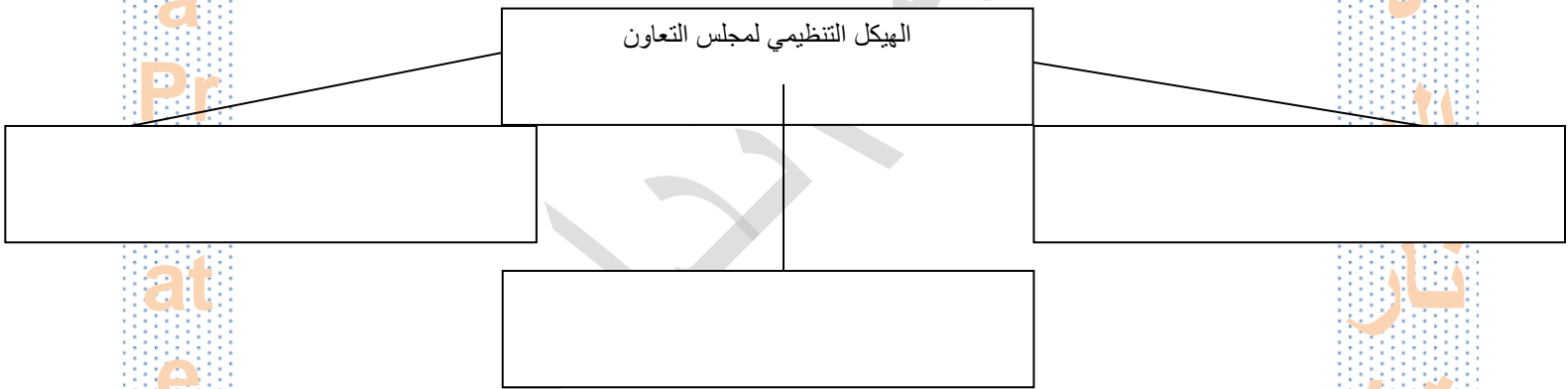
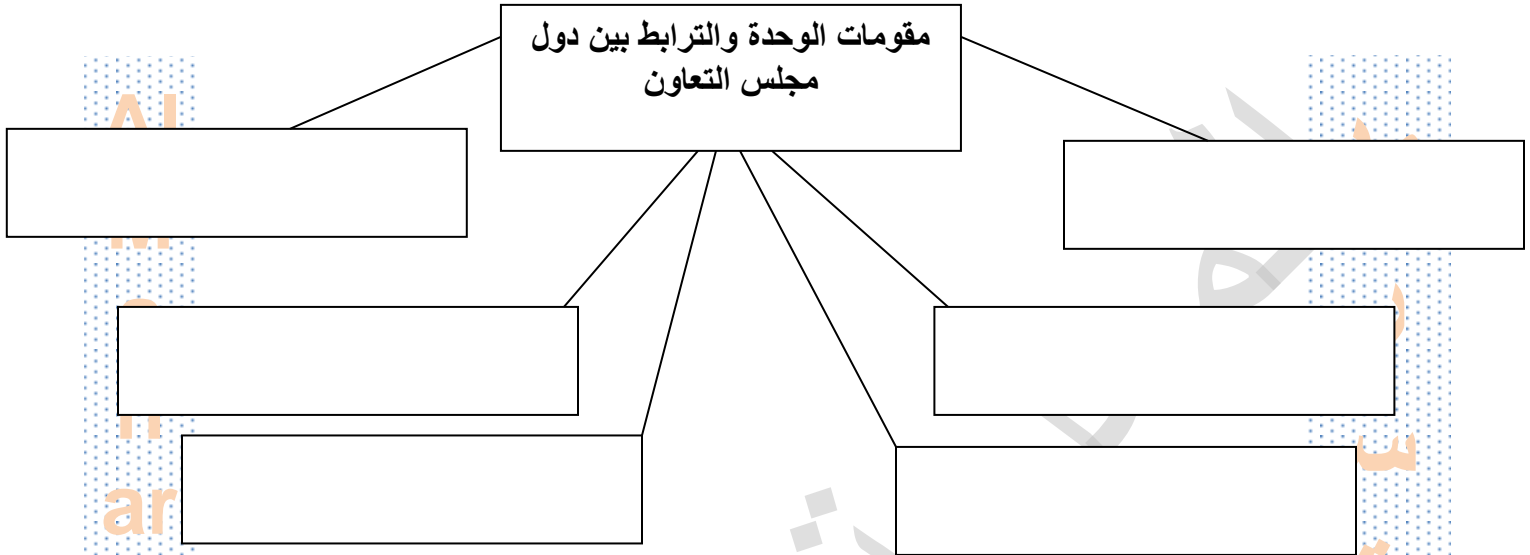
مؤسسة التنمية
الأسرية



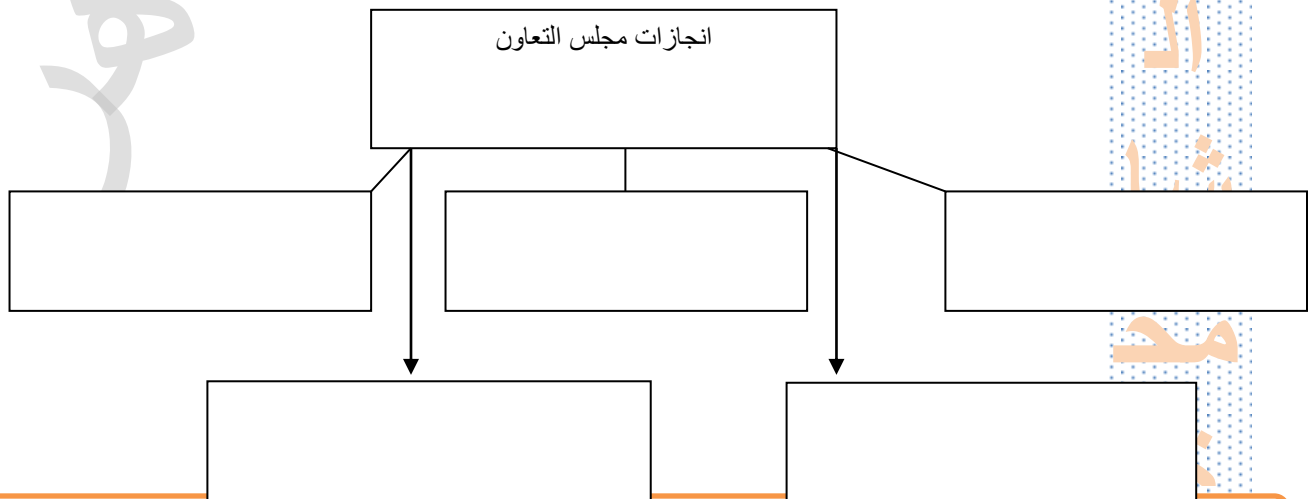
وزارة الثقافة و
الشباب

أوراق عمل درس مجلس التعاون لدول الخليج العربي

عزيزي الطالب اكمل المخططات الذهنية الاتية :



عزيزي الطالب اكمل المخططات الذهنية الاتية :



اهداف مجلس التعاون

Three empty rectangular boxes for writing the objectives of the cooperation council.

ما المقصود بما يلي:

1- المجلس الاعلي:

2- المجلس الوزاري:

3- الامانة العامة:

عزيزي الطالب اكمل الجمل الاتية:

1: تمثلت اول خطوات قيام مجلس التعاون حين اجتمع الشيخ..... بالشيخ..... بعد خروج
بريطانيا

2: تم توقيع وثيقة اعلان مجلس التعاون لدول الخليج العربي في

3: في 25 مايو 1981 استضافت دولة الامارات.....

4: من اهداف مجلس التعاون وضع انظمة في مختلف الميادين

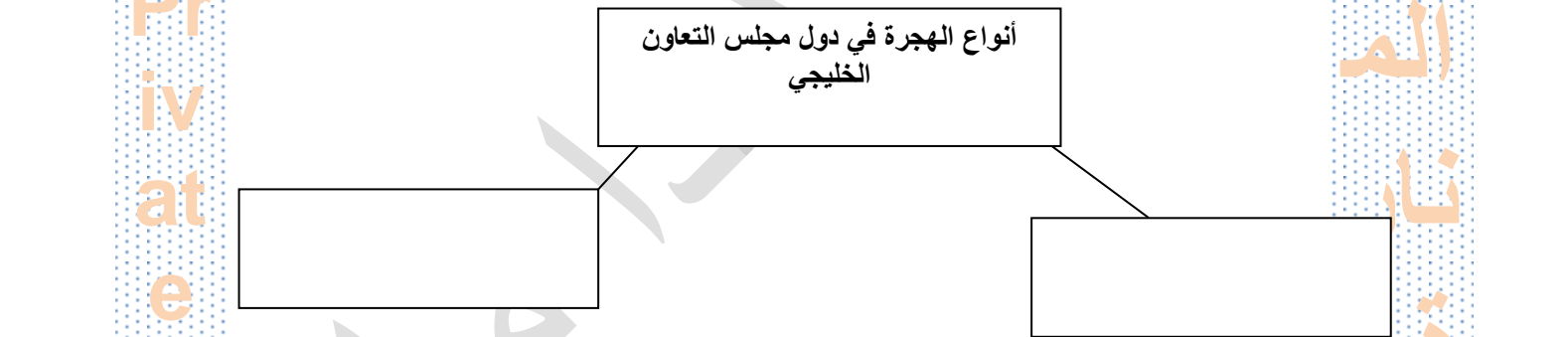
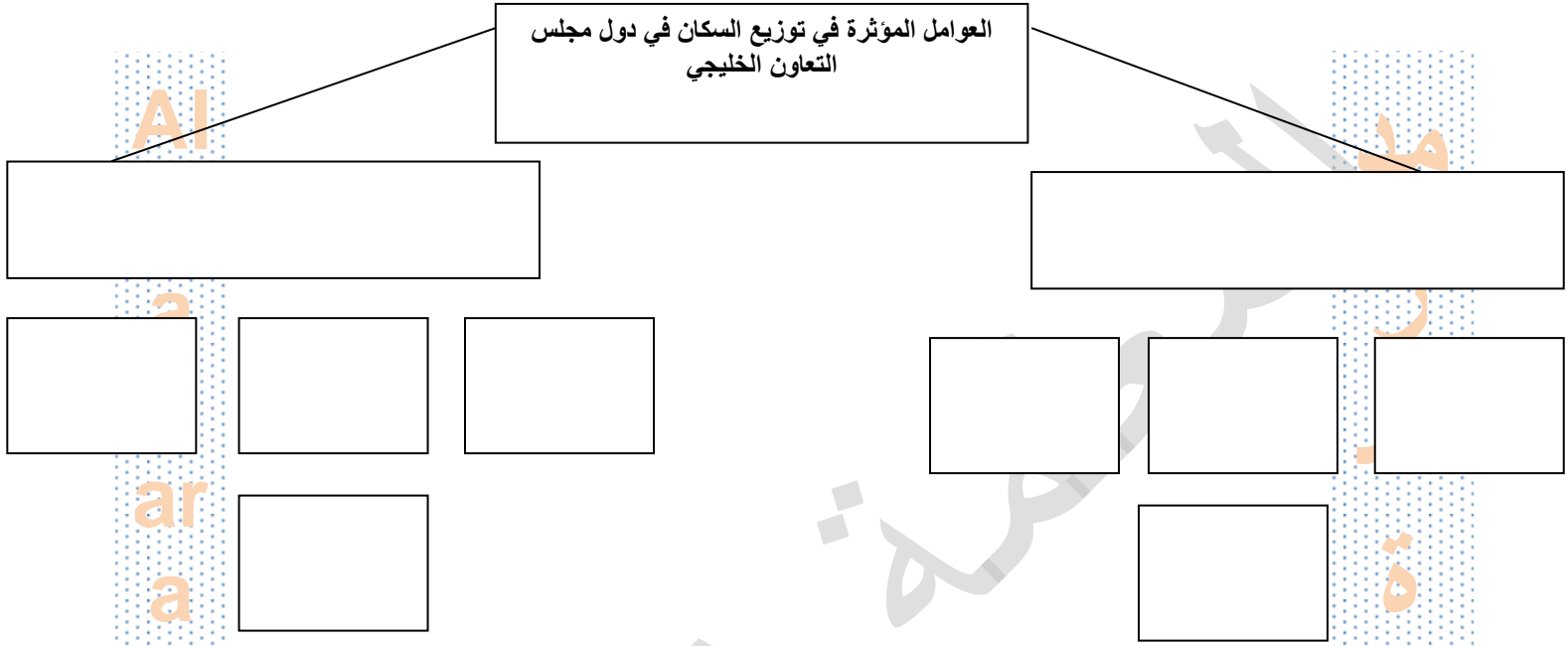
5: من انجازات مجلس التعاون بناء.....

ضع علامة (✓) امام العبارة الصحيحة وعلامة (x) امام العبارة الخاطئة:

- 1: من مقومات الوحدة بين دول مجلس التعاون وحدة الارض ()
- 2: في 25 مايو 1981 استضافت دولة الامارات اول مؤتمر قمة لقادة العرب ()
- 3: من مقومات الوحدة الهيكل التنظيمي لمجلس التعاون ()
- 4: يتكون المجلس الاعلي من وزراء خارجية الدول الاعضاء ()
- 5: يعقد مجلس الوزراء اجتماعات مرة كل 3 شهور ()
- 6: من انجازات مجلس التعاون (التعاون في المجالات الامنية) ()
- 7: يتكون مجلس التعاون من ست دول اعضاء ()

أوراق عمل درس السكان في دول مجلس التعاون الخليجي

عزيزي الطالب اكمل المخططات الذهنية الاتية :



ما المقصود بما يلي:

- 1- النمو الطبيعي للسكان:
- 2- النمو الغير طبيعي (الهجرة):
- 3- الكثافة السكانية:
- 4- التركيب السكاني:

عزيزي الطالب اكمل الجمل الآتية:

1: من العوامل التي تساعد علي النمو السكاني السريع في دول مجلس التعاون.....

2: يتميز سكان دول مجلس التعاون بخصائص سكانية مشتركة كضعف.....

3- ادي تطور وسائل النقل وتوفر الخدمات في المدن الي زيادة رغبة.....

4- من الواحات الاكثر كثافة.....

5- من المشكلات الاجتماعية الناجمة عن الهجرات.....

6- من الاجراءات التي اتخذتها دول مجلس التعاون للحد من مشكلات التلوث.....

ضع علامة (✓) امام العبارة الصحيحة وعلامة (x) امام العبارة الخاطئة:

1: من العوامل المؤثرة في توزيع السكان المناخ المعتدل ()

2: من العوامل الطبيعية المؤثرة في توزيع السكان الحرفة ()

3: تنقسم الهجرة لهجرة داخلية وخارجية ()

4: من الواحات الاكثر كثافة واحة ابوظبي ()

5: من المدن الاقل كثافة الكويت ()

6: تتميز دول مجلس التعاون بزيادة نسبة الذكور ()

7: تتميز دول مجلس التعاون بزيادة نسبة صغار السن ()

العوامل الطبيعية المؤثرة في توزيع السكان



لخصي العوامل المؤثرة في توزيع السكان



العوامل البشرية المؤثرة في توزيع السكان



ما هي أسباب النمو السكاني



معلمة المادة: سهيلة الحوسني



التركيب
الفتوي



التركيب
العمري



ol
(A

مخ
ة

السكان في دول مجلس التعاون

اولاً: ضع المفهوم المناسب لتعريف التالي :

(الكثافة العامة للسكان – الزيادة غير الطبيعية – الزيادة الطبيعية – تركيب السكان

المفهوم	التعريف
	تنجم الزيادة الطبيعية للسكان من معدلات المواليد المرتفعة مقابل الانخفاض الكبير في معدلات الوفيات
	الزيادة غير الطبيعية هي الزيادة الناتجة عن هجرة السكان؛ إما داخلياً من منطقة إلى أخرى، أو من دولة إلى أخرى
	نصيب الكيلومتر الواحد من الأفراد
	الخصائص السكانية التي يمكن قياسها، مثل العمر والنوع والحالة الاجتماعية و حجم الأسرة والتعليم

ثانياً: اجب عن الاسئلة الاتية :

3-العوامل الطبيعية المؤثرة في توزيع السكان:

- 1-
2-
3-
1

4-العوامل البشرية المؤثرة في توزيع السكان:

- 1-
2-
3-

5- اذكر سبب ارتفاع معدل المواليد في دول شبة الجزيرة العربية .

.....

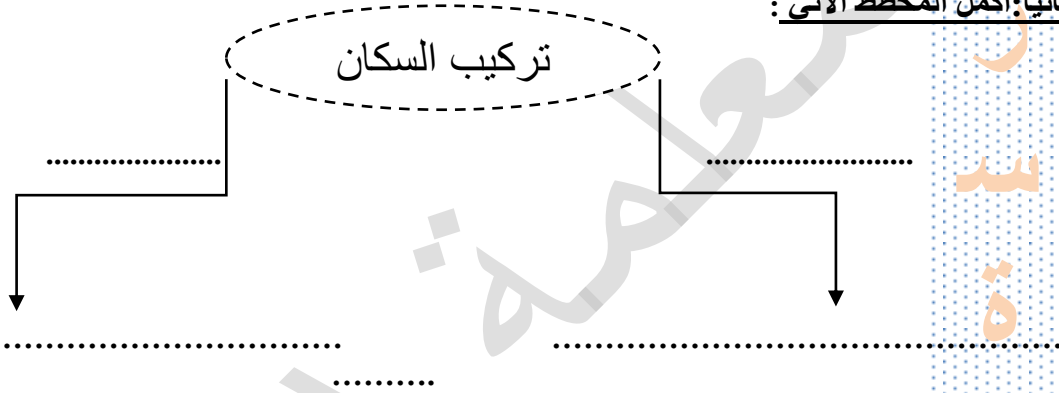
6-فسر ارتفاع نسبة الذكور مقارنة بعدد الاناث في دول شبة الجزيرة العربية .

.....

أولاً: اختر المصطلح المناسب لهذه العبارات:

التعريف	المفهوم
	يُقصدُ بتركيب السَّكَّانِ
	الزيادة الطبيعية
	الزيادة الغير طبيعية

ثانياً: اكمل المخطط الآتي:


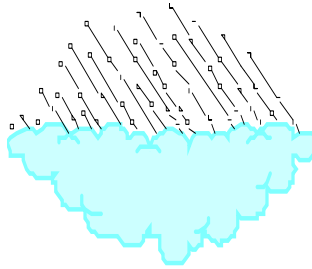


ثالثاً أكتب أسفل كل صورة ما تدل عليه من العوامل المؤثرة في توزيع السكان:

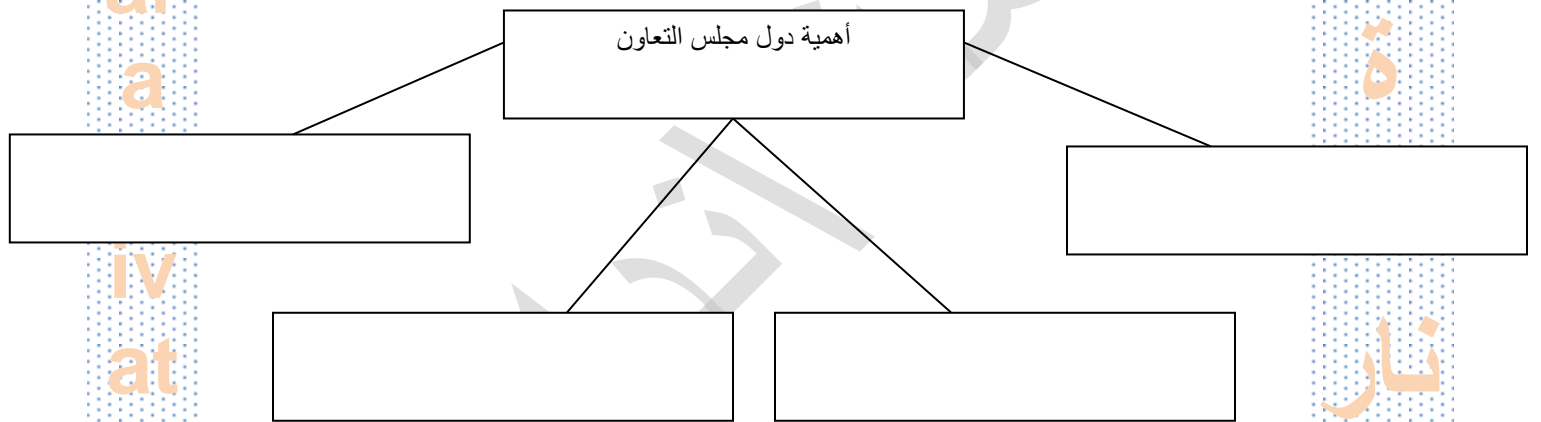


أوراق عمل درس الموقع الجغرافي لدول مجلس التعاون الخليجي

- من خلال الصور التالية عدد عناصر المناخ



عزيمي الطالب اكمل المخططات الذهنية الاتية :

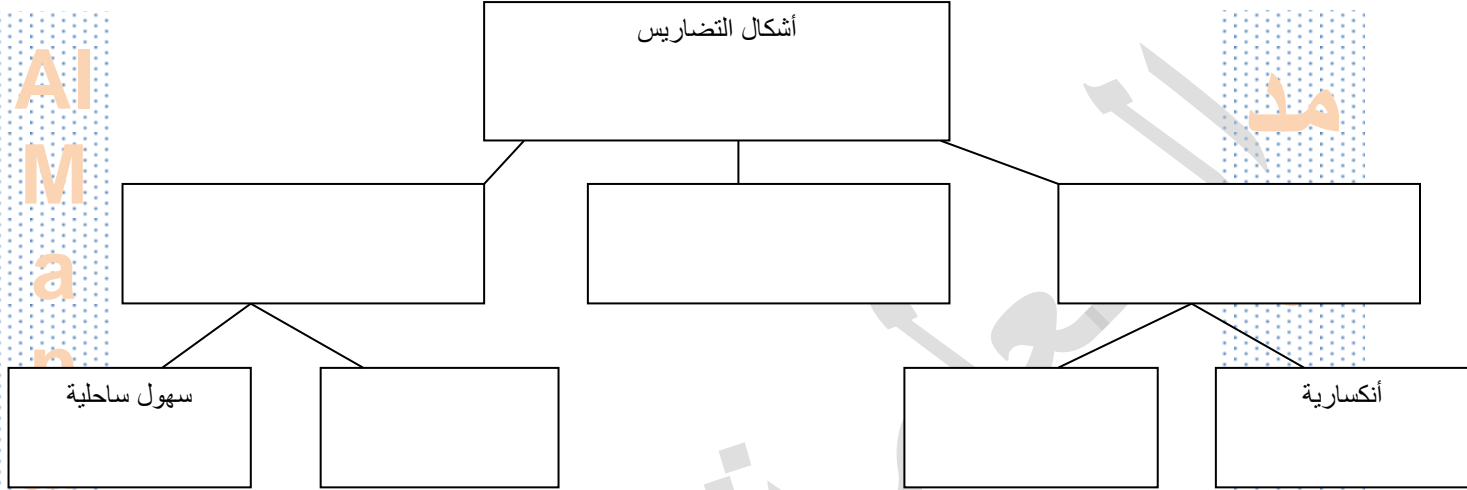


طرق تحديد الموقع

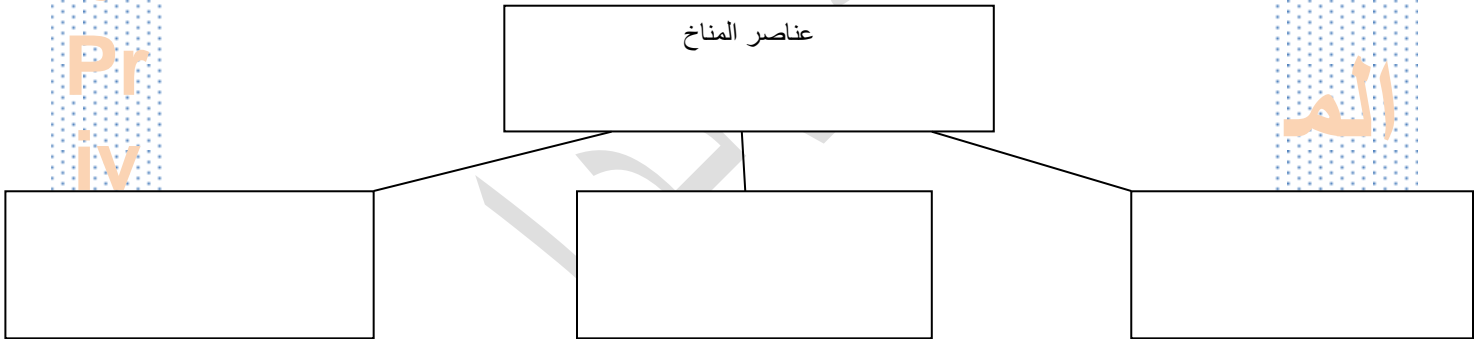


عزيزي الطالب اكمل المخططات الذهنية الاتية :

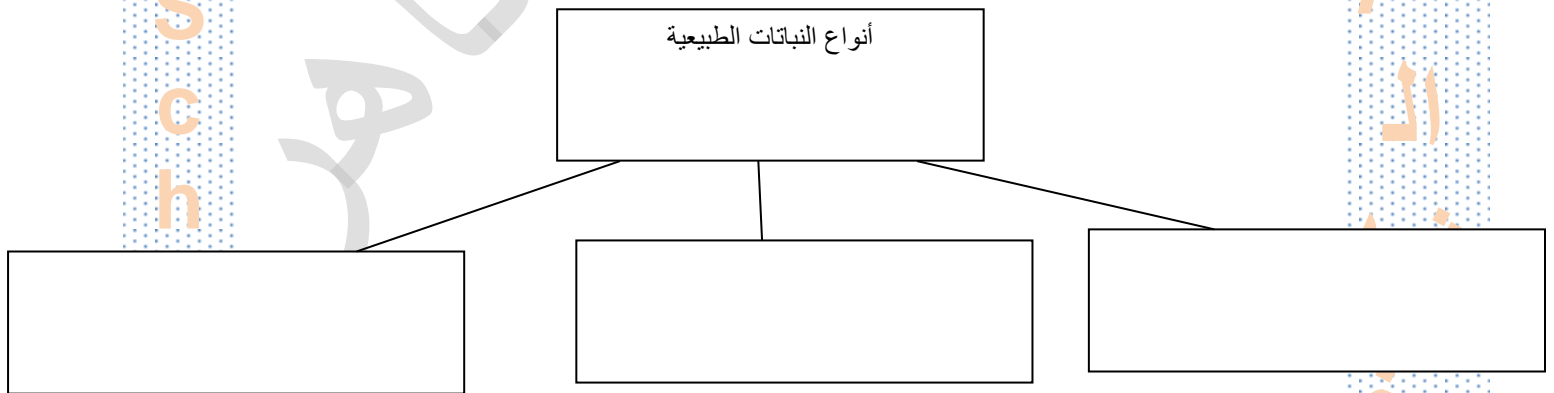
أشكال التضاريس



عناصر المناخ



أنواع النباتات الطبيعية



عزيزي الطالب اكمل الجمل الآتية:

1: تهب علي دول مجلس التعاون رياح.....

2: من الرياح المحليةو.....

3: من امثلة الجبال التي توجد في دول مجلس التعاونو.....

4: تمثلالجزء الاكبر من شبة الجزيرة العربي.

5: السهول هي

6: تتميز الهضاب بوجودو.....

7: توجد هضبة نجد في دولة.....

8: يوجد الجبل الاخضر في دولة.....

9: الموقعيتم فيه استخدام خطوط الطول ودوائر العرض.

10: الموقعيتم به استخدام الجهات الاصلية والفرعية.

11: من اهمية دول دول مجلس التعاون

.....و.....و.....و.....

عزيزي الطالب وضح المقصود بما يلي:

التضاريس/.....

الهضاب/.....



السهول/.....

المناخ/.....

النبات الطبيعي/.....

الموقع الفلكي/.....

الموقع النسبي/.....

ضع علامة (✓) امام العبارة الصحيحة وعلامة (x) امام العبارة الخاطئة:

()

1: يمثل وجود المسجد النبوي اهمية اقتصادية.

()

2: يتم قياس الموقع الفلكي بخطوط الطول ودوائر العرض

()

3: من عناصر التضاريس الجبال والهضاب

()

4: تهب علي دول مجلس التعاون رياح جنوبية غربية

()

5: من عناصر المناخ الرياح والامطار

()

6: توجد هضبة نجد في السعودية

()

7: يوجد الجبل الاخضر باليمن

()

8: توجد واحة ليوا بالامارات

التضاريس

ماهي أهمية الجبال مع ذكر أسماء بعض الجبال؟

.....
.....
.....

ضع علامة (✓) أمام العبارة الصحيحة وعلامة (x) أمام العبارة الخاطئة:

- 1: تتواجد السهول الساحلية بجوار المسطحات المائية . ()
- 2: السهول هي ارض مرتفعة عن سطح الارض شديدة الانحدار . ()
- 3 الهضاب هي ارض مرتفعه ولكن اقل ارتفاع من الجبال وسطحها مستوي مثل هضبة نجد . ()
- 4 من أهمية الجبال استخراج الثروات المعدنية. ()

عبر برسمة جميلة عن أشكال التضاريس التي تناولها الدرس؟

أوراق عمل درس المحميات الطبيعية في بلادي

عزيزي الطالب اكمل المخططات الذهنية الآتية :

أهمية انشاء المحميات

الاعمال المساهمة في تدمير المحميات

المحميات الموجودة
بالدولة
وفي اي امانة
وبحرية ام برية

السؤال الثاني:

1- ما المقصود بالمحميات الطبيعية؟

2- ماهي اهمية المحميات الطبيعية؟

3- ما هي الاعمال المساهمة في تدمير المحميات الطبيعية؟

3- ما هي جهود الدولة في الحفاظ علي الحياة الفطرية؟

عزيزي الطالب اكمل الجمل الاتية:

1: تقع محمية الوثبة في اماره..... وهي محمية.....

2: تضم محمية الوثبة العديد من الطيور مثل..... و..... و.....

3: تقع محمية صير بونعير في اماره..... وهي محمية.....

4: تضم محمية صير بونعير العديد من الحيوانات مثل..... و..... و.....

5: تقع محمية العقة في اماره..... وهي محمية.....

6: تقع محمية رأس الخور في اماره..... وهي محمية.....

7: تضم محمية رأس الخور العديد من الطيور والاشجار مثل..... و..... و.....

8: تقع محمية صير بني ياس في اماره..... وهي محمية.....

9: تضم محمية صير بني ياس العديد من الحيوانات مثل..... و..... و.....

10: تقع محمية وادي الوريعة في اماره..... وهي محمية.....

ضع علامة (✓) امام العبارة الصحيحة وعلامة (x) امام العبارة الخاطئة:

- 1: بلغ عدد المحميات الطبيعية في دولة الامارات عام 2010 (35) محمية ()
- 2: تميزت محمية امارة وادي الوريعة بتنوع التضاريس ووجود الشلالات ()
- 3: من أهم الحيوانات الموجودة في محمية صير بني ياس الغزلان والمها العربي ()
- 4: محميات الفجيرة البحرية تضم خمس محميات طبيعية ()
- 5: تضع الدولة القوانين لحماية الحيوانات المهددة بالانقراض وفرض العقوبات علي المخالفين ()

أوراق عمل درس الشيخ زايد فارس البيئة

عزيزي الطالب اكمل المخططات الذهنية الآتية :

من هوايات الشيخ زايد

--	--	--	--

الصفات التي اكتسبها الشيخ زايد من
الصحراء

جوائز عطرته مسيرة المغفور
له الشيخ زايد رحمة الله

اذكر الموقف الدال على كلاً مما يلي :

1- حب الشيخ زايد للعمل:

2- تواضع الشيخ زايد:

3- تسامح الشيخ زايد:

4- حب الشيخ زايد للعمل:

5- التزام الشيخ زايد:

عزيزي الطالب اكمل الجمل الآتية:

1: كان الشيخ زايد يحب الصيد ومارس الصيد ب..... وهو في عمر الثانية عشر.

2: من جهود الشيخ زايد لحماية الحيوان..... و.....

3: أنشأ الشيخ زايد محمية..... التي تعد.....

4: تأسست أول حديقة حيوان في.....

5: يهدف المركز الوطني لبحوث الطيور الي.....

ضع علامة (✓) امام العبارة الصحيحة وعلامة (x) امام العبارة الخاطئة:

()

1:تعلم الشيخ زايد الصيد بالصقور في سن 15

()

2:من الصفات التي اكتسبها الشيخ زايد من البيئة الصبر والجد والقوة

()

3:تأسست اول حديقة حيوان في مدينة الشارقة

()

4:يهدف مركز البحوث الوطني للطيور لحماية الطيور المهددة بالانقراض

()

5:أنشاء الشيخ زايد لحماية الجمال من الانقراض

()

6:من الالقاب التي حصل عليها الشيخ زايد فارس الصحراء

أوراق عمل درس نشأة الاسواق واهميتها

السؤال الاول عزيزي الطالب اكمل المخطط الذهني الاتي :

مراحل تطور الاقتصاد العالمي

Al

مد

a

n

ar

a

Pr

iv

at

e

S

c

h

o

ol

(A

ر

مد

ة

ة

الم

نار

ة

/

ة

ا

نشا

مخ

ة

ة

ة

ة

السؤال الثاني: ما المقصود بـ

الاسواق؟.....

.....

المقايضة؟.....

.....

السؤال الثالث؟

قدم مقترحاً " لدعم وتطوير الاسواق بالدولة؟.....

.....

أوراق عمل درس انواع الاسواق

السؤال الاول عزيزي الطالب اكمل المخطط الذهني الاتي :

انواع الاسواق

السؤال الثاني

ما المقصود بالاسواق الالكترونية؟

.....

.....

ما هي سلبيات البطاقات الالكترونية؟

.....

.....

السؤال الثالث؟صمم لوحة توضح شكل الاسواق قديما" من وحي أفكارك

أوراق عمل درس تطور الاسواق

السؤال الاول عزيزي الطالب اكمل المخطط الذهني الاتي :

انواع النقود

السؤال الثاني: بم تفسر

اسباب ظهور المقايضة؟

اسباب ظهور النقود؟

السؤال الثالث؟

قدم مقترحا " لنوع عملة جديدة ؟

أوراق عمل درس المشاريع الخضراء في بلادي

عزيزي الطالب اكمل المخططات الذهنية الآتية :

.....

.....

اهداف الطاقة النووية

.....

.....

اهداف انشاء محطة شمس

.....

.....

.....

.....(2)
.....
.....

مراحل تدوير النفايات

.....(1)
.....
.....

.....(3)
.....
.....

.....(4)
.....
.....

فوائد اعادة التدوير

السؤال الثاني:

1- ما المقصود بالطاقة

النووية؟.....

2- ماهو الشاحن الاخضر؟.....

3- ما هي عملية اعادة التدوير؟.....

عزيزي الطالب اكمل الجمل الآتية:

1: من فوائد الطاقة النووية.....

2: اهمية موقع بركة و..... و.....

3: تم انشاء مجمع محمد بن راشد في امانة.....

4: اطلقت مبادرة الشاحن الاخضر عام.....

5: يعدد الغاز الطبيعي.....بدلاً من النفط

6: من مزايا الغاز الطبيعي..... و.....

7: تستثمر دولة الاماراتمليار درهم في اعادة تدوير النفايات والتي تقدر ب.....طن

قارن بين الطاقة الشمسية والطاقة النووية

وجه المقارنة	الطاقة الشمسية	الطاقة النووية
المفهوم		
الاهمية (المزايا)		
التكلفة		
النوع		

قارن بين الشاحن الاخضر والغاز الطبيعي

وجه المقارنة	الشاحن الاخضر	الغاز الطبيعي
المفهوم		
الاهمية		
التكلفة		

الدرس الأول : الشيخ زايد فارس البيئة

رحمه ؟ - س1: ماهي اهم الهوايات التي مارسها - المغفور له - الشيخ زايد ابن سلطان ال نهيان

.....

.....

.....

س2 : ماهي اهم الصفات التي تميز بها - المغفور له- الشيخ زايد ابن سلطان ال نهيان ؟

.....

.....

.....

س3: ماهي جهود المغفور له - الشيخ زايد بن سلطان ال نهيان - رحمه في البيئة المماراتية ؟

.....

س4: ماهى اهم اللقب التي حصل عليها الشيخ زايد - رحمه هلا ؟

س5: ماهى اهم النجازات الالمية التي حقها الشيخ - زايد رحمه هلا وغفر له؟

س6: ماهى اهم الجوائز التي حصل عليها الشيخ زايد - رحمه هلا في مجال البيئة ؟

س8: فسر : اهتمام المغفور له - باذن هلا الشيخ زايد بن سلطان ال نهيان - رحمه هلا بالبيئة ؟

س9: سجل اثنين من النجازات البيئية التي تحققت في عهد المغفور له - الشيخ زايد بن سلطان رحمه هلا

الدرس الثاني : المحميات الطبيعية في بلادى

س1: عرف المحمية الطبيعية ؟

س2: ماهى اهمية انشاء المحميات الطبيعية ؟

س3: ماهى اهم العمال المساهمة في تدمير المحميات الطبيعية ؟

س4: ماهى جهود دولة المارات للحفاظ على الحياه الفطرية فى دولة المارات الاربية المتحدة ؟

س5: عرف الحياه الفطرية ؟

س6: ماهى اهم المحميات الطيباية فى دولة المارات ؟

س8: ماهى اهمية انشاء محمية صير بنى ياس الطيباية .

س9: بم تفسر اعتبار محمية وادي الورياة الجبلية اكثر جذبا للسياح ؟

الدرس الثالث : المشاريع الخضراء فى بلادي
س1: الطاقة النووية ؟

س2: عرف الأقتصاد الخضر ؟



س4: ماهي اهم استخدامات الطاقة النووية في دولة الامارات العربية المتحدة ؟

س5: عرف الشاحن الخضر ؟

س6: ماهي اهم اهداف مبادرة الشاحن الخضر ؟

س7: عرف تدوير النفايات

س8: ماهي مراحل تدوير النفايات ؟

س9: ماهي فوائد تدوير النفايات ؟

س11: عرف النفايات الالكترونية ؟

س11: اذكر اهمية مبادرة شمس دبي ؟

(المزايا)س12: قارن بين الطاقة الشمسية والطاقة النووية ؟ الطاقة الشمسية الطاقة النووية الهمية
التكلفة النوع

وجه المقارنة	الطاقة الشمسية	الطاقة النووية
المفهوم		
الأهمية		
التكلفة		
النوع		

س13: فكر /بم تفسر: اتجاه دولة الإمارات نحو مصادر اخري للطاقة ؟

درس مجلس التعاون لدول الخليج العربية

السؤال الأول : أكتب المفاهيم والمصطلحات لكل من العبارات التالية

موقع المكان بالنسبة إلى دوائر العرض وخطوط الطول	
أرض منخفضة ومستوية السطح	
حالة الجو خلال فترة زمنية طويلة في منطقة معينة	
جبال تكونت بفعل الصدوع والانكسارات	
سهول كونتها إرسابات الأودية	
النبات الذي نشأ ونما من تلقاء نفسه دون تدخل الإنسان فيه	

موقع المكان باستخدام الجهات الأصلية او الفرعية منسوبا إلى العالم أو القارة التي يوجد بها	
جبال تكونت بفعل حركات الطي والالتواء	
أرض مرتفعة و سطحها مستو ولكنها أقل ارتفاعاً من الجبل	
سهول تجاور المسطحات المائية	

السؤال الثاني : أكمل العبارات التالية

- تمتد دول مجلس التعاون لدول الخليج العربية بين دائرتي عرض درجة شمال خط الاستواء،
وبين خطي طول درجة شرق خط غرينتش.
تقع دول مجلس التعاون لدول الخليج العربية وسط ، في أقصى جنوب غرب في إقليم
- يتبلغ مساحة دول مجلس التعاون لدول الخليج العربية حوالي كم².
تنقسم التضاريس في دول مجلس التعاون لدول الخليج العربية إلى : و و
من أبرز الجبال في دول مجلس التعاون لدول الخليج العربية : و
من أبرز الهضاب في دول مجلس التعاون لدول الخليج العربية : و
من أبرز الواحات في دول مجلس التعاون لدول الخليج العربية : و
من أبرز الأودية الجافة في دول مجلس التعاون لدول الخليج العربية : و
- تختلف السهول الساحلية في دول مجلس التعاون الخليجي من منطقة إلى أخرى من حيث و
تشابه الخصائص المناخية في دول مجلس التعاون الخليجي بسبب
عناصر المناخ هي : و
تهب على دول مجلس التعاون الخليجي رياح مثل الرياح والتي تسبب سقوط أمطار قليلة،
تتميز دول مجلس التعاون الخليجي بقلّة الأمطار وعدم انتظامها بسبب
تسقط الأمطار على دول مجلس التعاون الخليجي في فصل الشتاء باستثناء
يتأثر النبات الطبيعي في دول مجلس التعاون الخليجي بـ و

السؤال الثالث : قارن بين كلا مما يلي

جبال عمان	جبال البحر الأحمر
الموقع :	الموقع :
أهم الأودية :	أهم الأودية :
أعلى قممها :	أقسامها :
السهول الساحلية	السهول الفيضية
تجاور	كوتنها
مثل :	مثل :

السؤال الرابع : أذكر الأهمية الإستراتيجية والاقتصادية والدينية والحضارية لدول مجلس التعاون الخليجي

الأهمية الإستراتيجية	
الأهمية الاقتصادية	
الأهمية الدينية	
الأهمية الحضارية	

السؤال الخامس : أكمل المخططات التالية
العوامل التي تأثر في مناخ دول مجلس التعاون الخليجي

أنواع النباتات الطبيعية في دول مجلس التعاون الخليجي
النباتات النباتات النباتات
مثل : مثل : مثل

ذوقك الرفيع
واضح في
خطك الجميل

ورقة عمل درس السكان في دول مجلس التعاون

السؤال الاول: علل

1: ارتفاع عدد السكان في دول مجلس التعاون الخليجي

2: ارتفاع الكثافة السكانية في البحرين

3: انخفاض الكثافة السكانية في السعودية

السؤال الثالث: أكمل

- 1: عدد سكان دول مجلس التعاون الخليجي في..... مستمرة
- 2: يعتمد برنامج الشيخ زايد للاسكان عل كوادر.....
- 3: من القيم التي يحققها برنامج الشيخ زايدلاساكن.....

السؤال الثالث: أكمل المخطط الذهني الاتي

العوامل الطبيعية المؤثرة في
توزيع السكان

--	--	--	--

ورقة عمل دراسات اجتماعية للصف للعام الدراسي 2018 / 2019 (ندا ماهر) .

اسم الطالب	الصف و الشعبة	اليوم.....	تاريخ	2018 /...../.....
------------	-------	---------------	------------	-------	-------------------

مقومات الوحدة بين سكان دول مجلس التعاون

الاهداف: يحدد مظاهر الروابط المشتركة بين ابناء دول مجلس التعاون لدول الخليج العربي

السؤال الاول: ضع علامة () امام العبارة الصحيحة وعلامة () امام العبارة الخاطئة

- 1: تشكل الوحدة الدينية مقوماً " رئيسياً" من مقومات الوحدة بين سكان دول مجلس التعاون ()
- 2: تعد اللغة الانجليزية هي اللغة الرسمية التي يتواصل بها ابناء دول مجلس التعاون ()
- 3: من ابرز العادات والتقاليد الزي الرسمي ()
- 4: قام مجلس التعاون لدول الخليج العربي عام ()

السؤال الثاني :أكمل

1: من مظاهر اهتمام دول مجلس التعاون الخليجي في المجال الديني

.....
.....

2: العنقة هي

3: تم توقيع اتفاقية الدفاع المشترك بين دول الخليج عام

السؤال الثالث: أكمل المخطط الذهني الاتي

مظاهر وحدة التاريخ لدول الخليج العربي

