



ملتزمون يا وطن

صباح الخير يا وطني

ومرحبا بكم يا مستقبل

الوطن وفخره





ABC



اليوم : الأربعاء النشيط

التاريخ: 2/9/2020

الحصة : الثالثة

صفي الرائع: الثاني الأساسي- 1

المادة : الدراسات الاجتماعية





نبدأ الآن بتسجيل
الحضور والغياب
يا أبطال الرائعين



ملتزمون يا وطن



قواعد التعليم عن بعد

جهز أدواتك



4

عدم مقاطعة الحصة بأي



3

التفاعل الإيجابي



2

الالتزام بالوقت المحدد



1

أغلق الصوت وانتظر دورك للإجابة



8

عدم تصوير الشاشة أثناء الشرح




7

استخدام الأجهزة بطريقة تناسب العملية التعليمية



6

اتباع تعليمات المعلمة



5

الصف الرابع
الفصل الدراسي الأول



UAEBARQ
برق الإمارات

اللَّهُمَّ احفظ دولتِ
الإمارات.. قيادَةً
وَحكومتً وشعباً
وأدم علينا الأمان
والأمان





الإمارات
THE EMIRATES

عام التسامح
YEAR OF TOLERANCE



"حَضْرَ نَفْسِكَ لِمَا تَتَوَقَّعُهُ وَمَا لَا تَتَوَقَّعُهُ"

زايد بن سلطان آل نهيان

@majaber2



قواعد التعلم عن بعد

طلابنا الأعزاء... التعلم عن بعد تقنية حديثة في المدرسة الإماراتية ، وقد تم استحداثها من أجل جيل قادر على تحمل مسؤوليات التعلم في أي مكان بعيداً عن الغرفة الصفية ، لذا كن جزءاً فعالاً في نجاح هذه التقنية من خلال الإلتزام بقواعد التعلم عن بعد .




عدم مقاطعة عملية
التعلم بأي شكل

3



التفاعل
الإيجابي

2



الالتزام بالوقت
المحدد للحصص

1



عدم تصوير
الشاشة أثناء
الشرح

6



الالتزام بالسياسة العامة
لاستخدام الأجهزة
والبرامج التعليمية

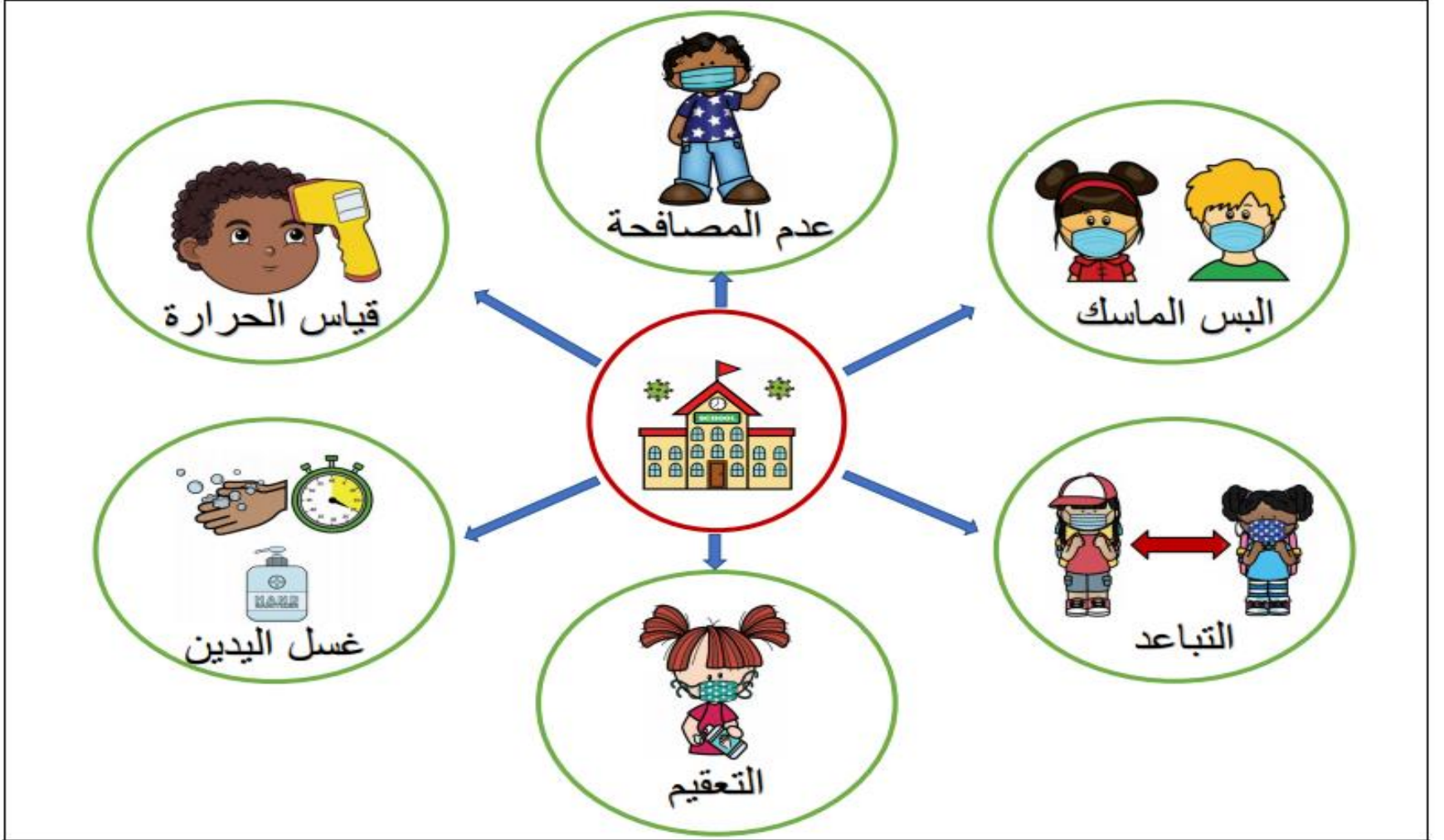
5



اتباع تعليمات
المعلم

4

قواعد التعلم بالمدرسة



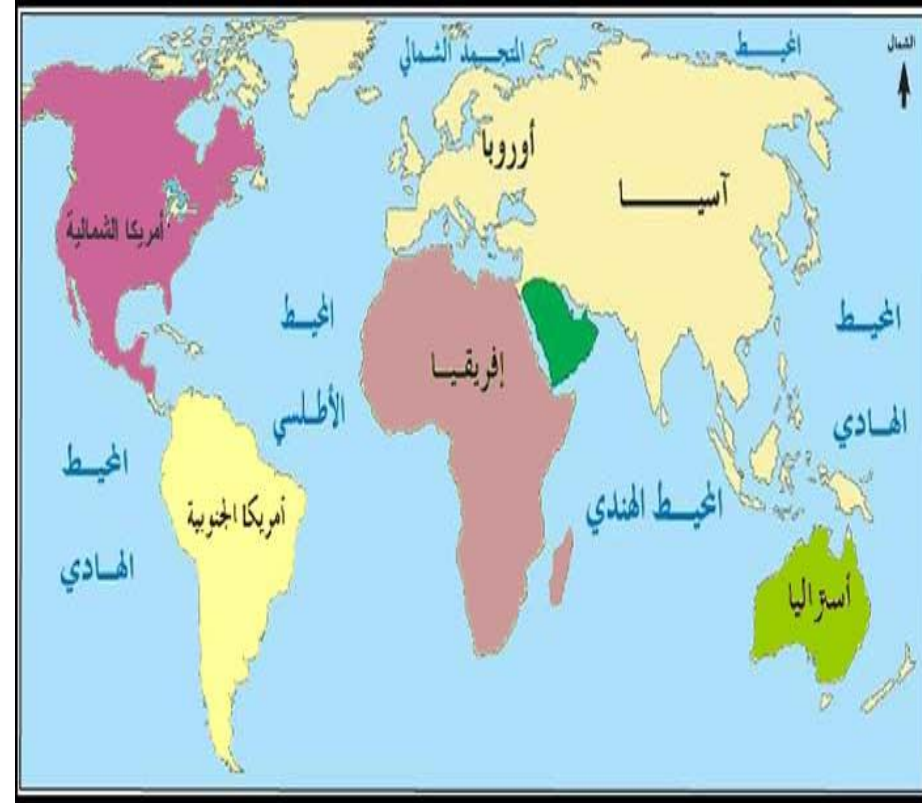
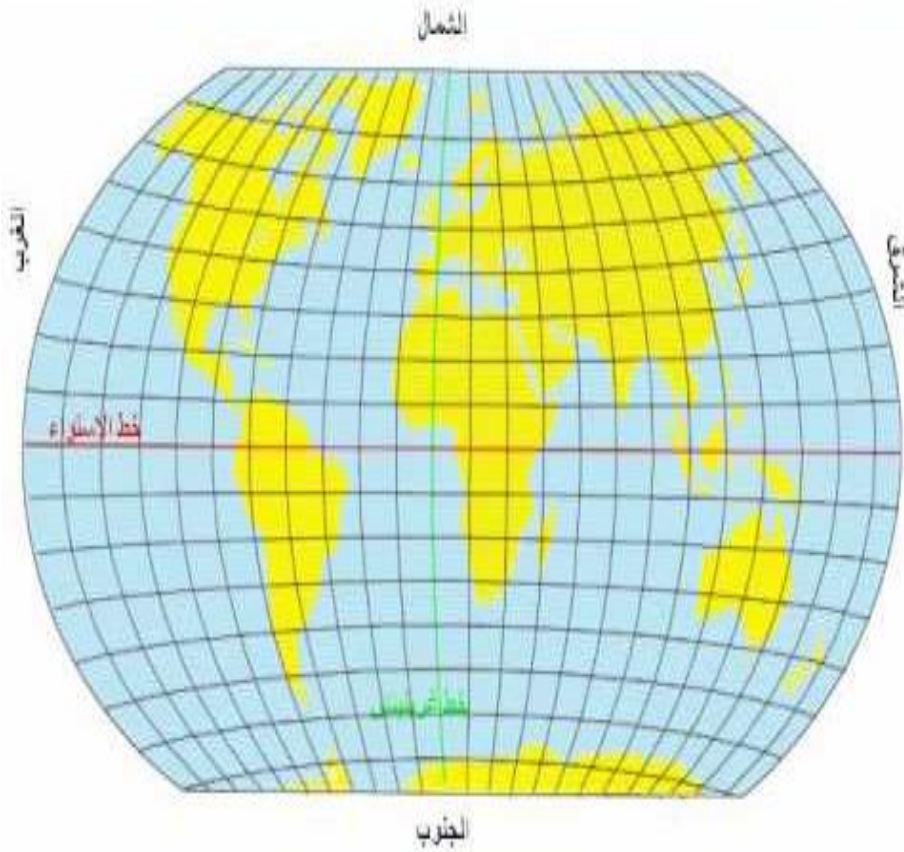
الوَخْدَةُ الْأُولَى: أَعْرِفْ بِلَادِي

14	رِحْلَةُ الْمَعْرِفَةِ [حُطُوطُ الطُّولِ وَدَوَائِرُ الْعَرْضِ]	الدَّرْسُ الْأَوَّلُ
24	مَوْقِعُ بِلَادِي	الدَّرْسُ الثَّانِي
36	طَبِيعَةُ بِلَادِي 1 [الْجِبَالُ وَالسُّهُولُ]	الدَّرْسُ الثَّلَاثُ
48	طَبِيعَةُ بِلَادِي 2 [الْجُزُرُ وَالْكُثْبَانُ الرَّمْلِيَّةُ]	الدَّرْسُ الرَّابِعُ
58	المُنَاخُ وَالْحَيَاةُ الطَّبِيعِيَّةُ فِي بِلَادِي	الدَّرْسُ الْخَامِسُ

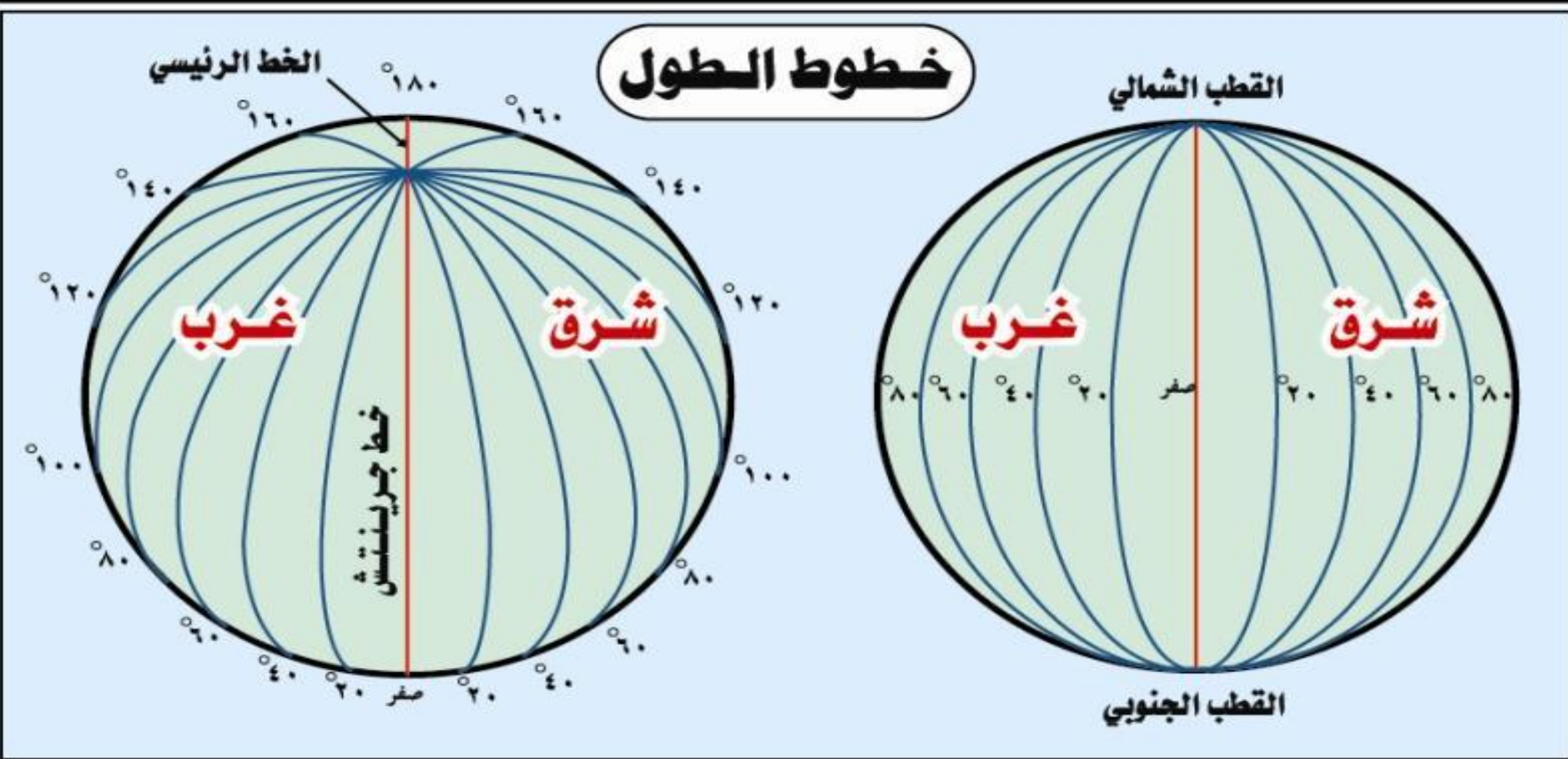
الموقع الجغرافي

الموقع الفلكي

الموقع النسبي

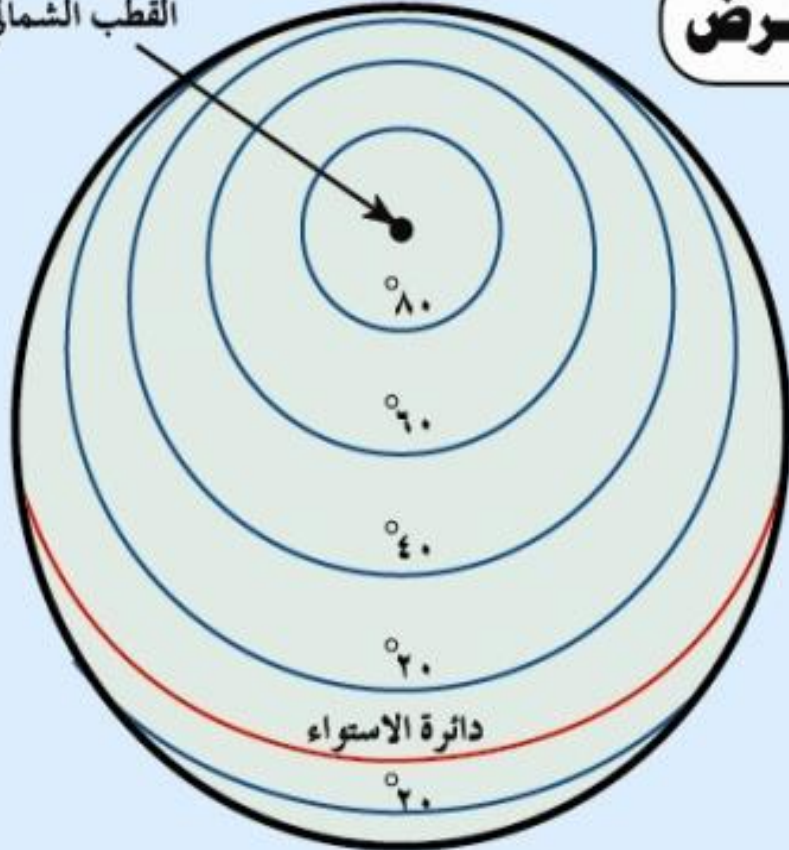


خطوط الطول :- هي أنصاف دوائر تتلاقى جميعها عند نقطتي القطبين وهي متساوية وعددها 180 خط طول شرقاً و180 خط طول غرباً

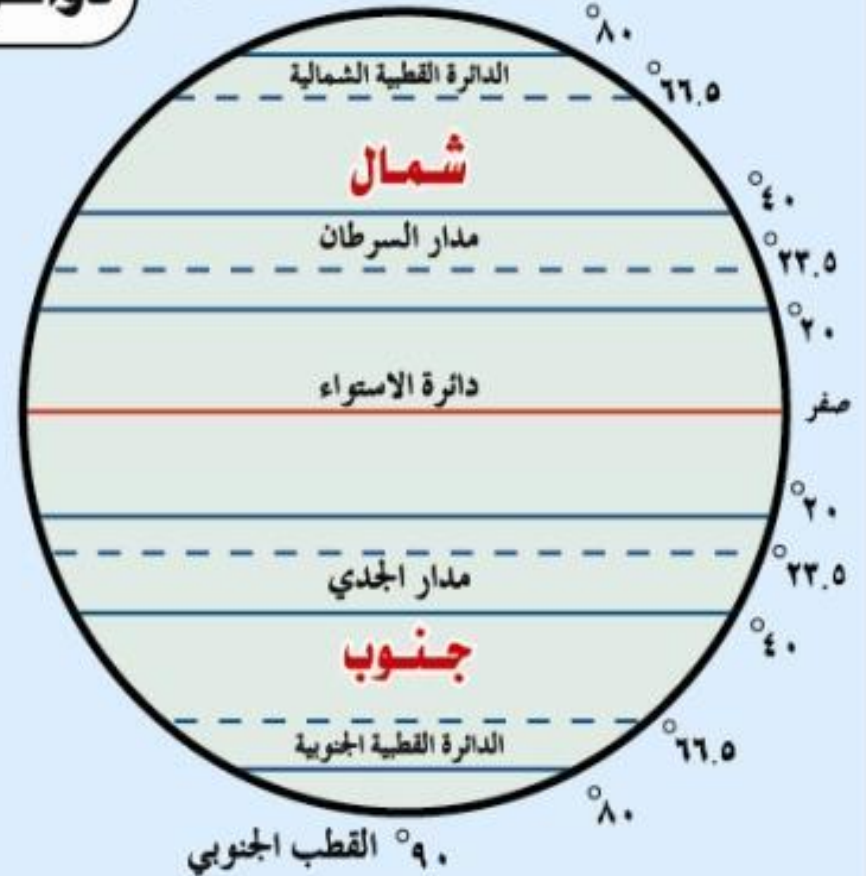


دوائر العرض

القطب الشمالي

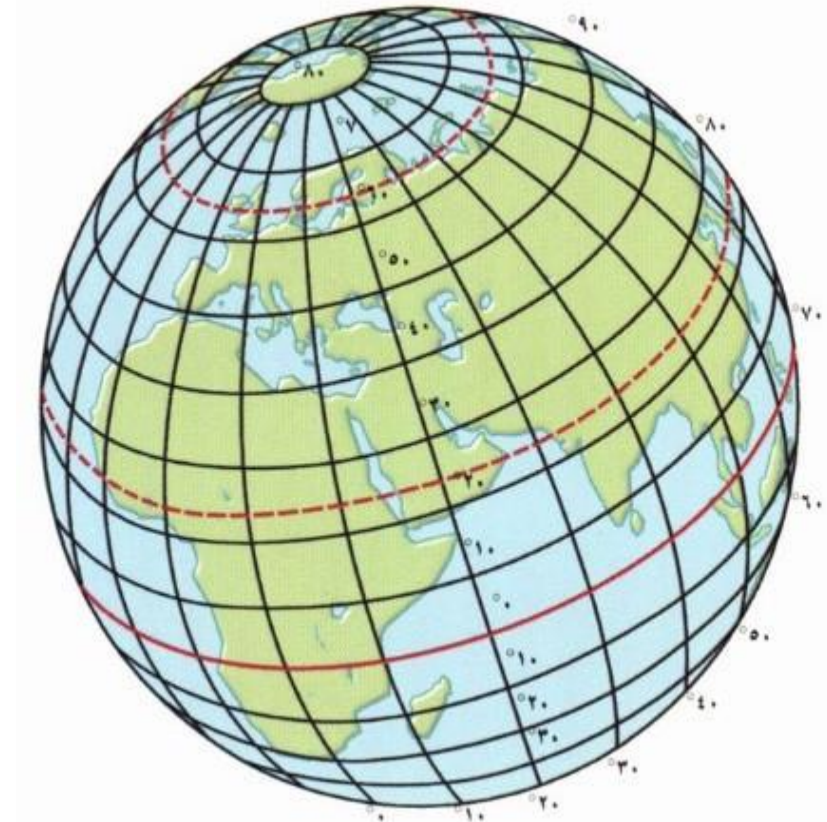
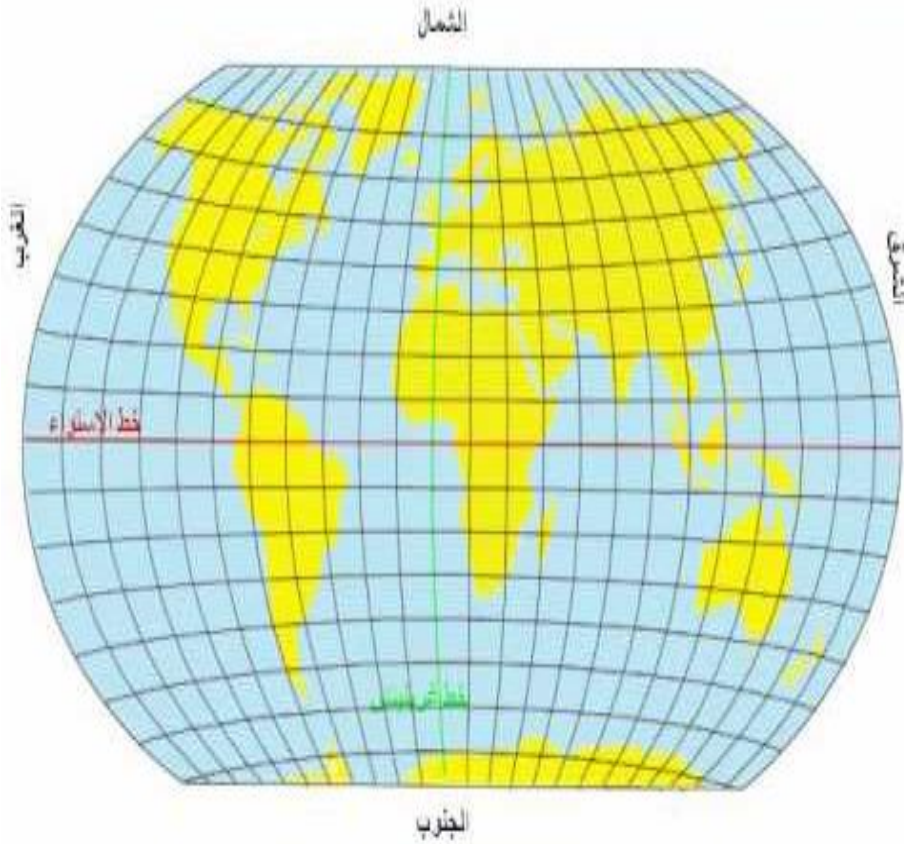


90° القطب الشمالي



خطوط الطول ودوائر العرض

شبكة من خطوط الطول ودوائر العرض الوهمية المرسومة على الخرائط





التهيئة الحافزة

تعالوا نشاهد هذا الفيديو



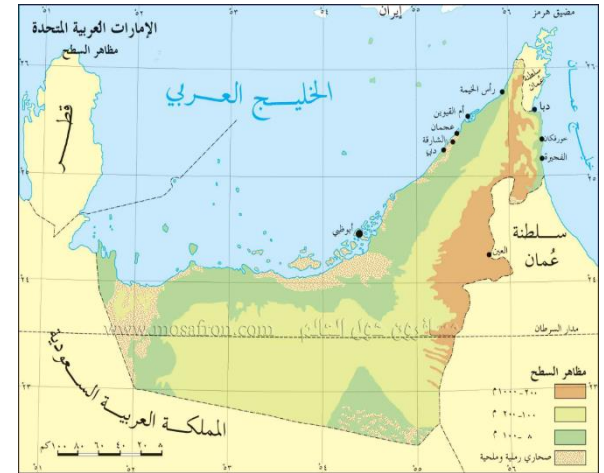


عنوان الدرس

اجابة صحيحة
أحسننت



موقع بلادي



◀ نَوَاتِجُ التَّعَلُّمِ:

- يُفَسِّرُ المفاهيمَ والمصطلحاتِ الواردةَ الدرسِ.
- يَتَعَرَّفُ الموقعَ الفلكيَّ لدولةِ الإماراتِ العربيَّةِ المتحدَةِ.
- يُحَدِّدُ الموقعَ النَّسبيَّ لدولةِ الإماراتِ العربيَّةِ المتحدَةِ.
- يُثَمِّنُ أهميَّةَ الموقعِ الجغرافيِّ لدولةِ الإماراتِ العربيَّةِ المتحدَةِ.



2

1

4

لعبة الذاكرة

3

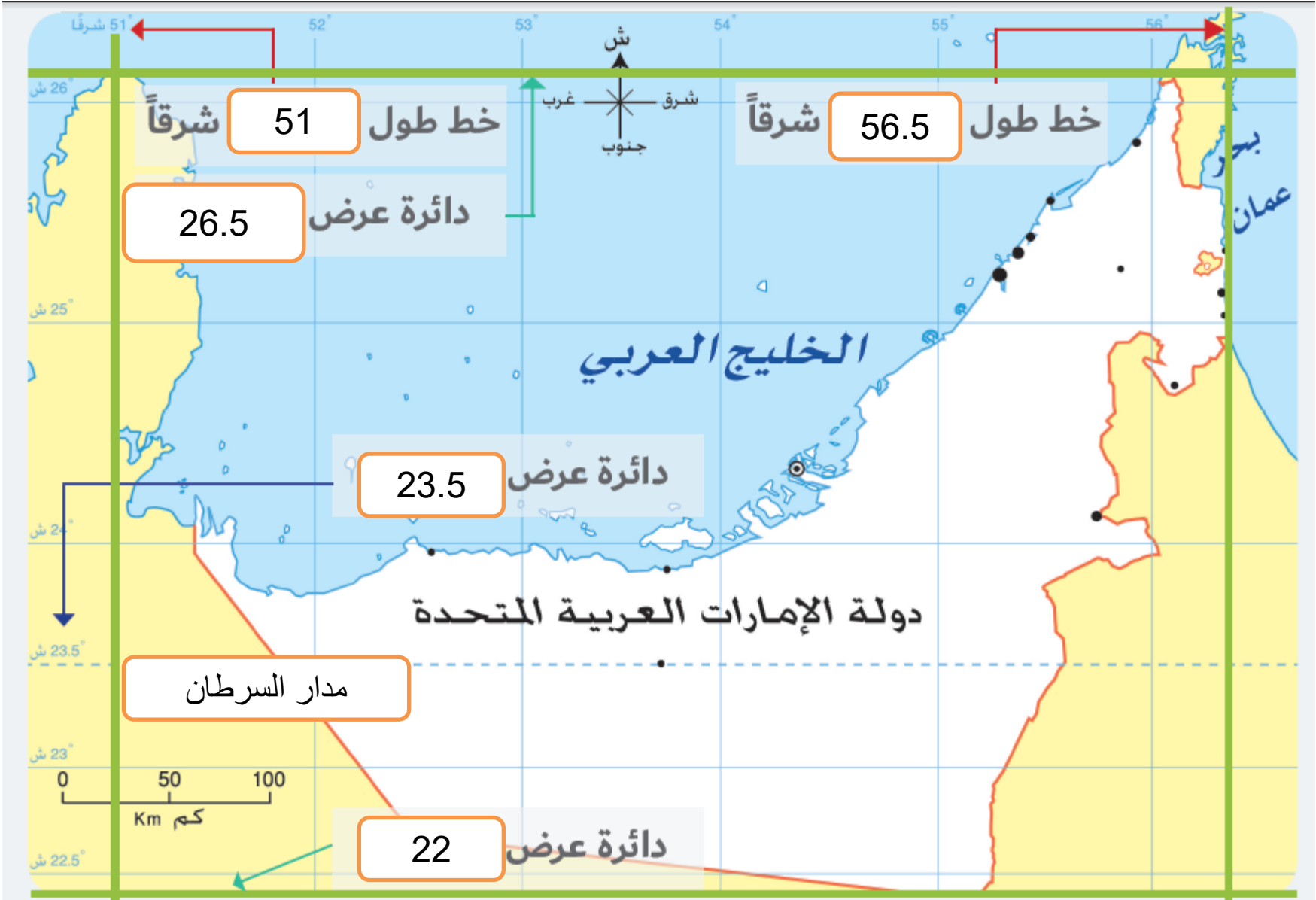
6

5

نشاط ختامي او التاكيد على خبرات سابقة

تقع دولة الإمارات العربية المتحدة بين دائرتي عرض (22) و(26.5) درجة شمال خط الإستواء ، وبين خطي طول (51) و(56.5) درجة شرق خط جرينتش يمر مدار السرطان في الجزء الجنوبي من دولة الإمارات العربية المتحدة .

أقرأ خريطة دولة الإمارات العربية المتحدة ثم أستكمل الآتي :



تتميز الإمارات بموقع جغرافي هام ، فعي تقع في قلب العالم القديم (آسيا ، أفريقيا ، أوروبا) في جنوب غرب آسيا ، وذلك بالجهة الشرقية من شبه الجزيرة العربية ،
تعرف شبه الجزيرة: بأنها منطقة من اليابسة محاطة بالماء من ثلاث جهات ، وتشرف على مسطحين مائيين هما الخليج العربي شمالا وبحر عمان شرقا ، وجنوبا وغربا يحدها المملكة العربية السعودية ، والخليج العربي هو أحد الطرق الملاحية، ويعرف الخليج: بأنه لسان كبير من الماء محاط باليابسة من ثلاث جهات .

أسجل حدود دولة الإمارات العربية المتحدة في خريطة :

الخليج العربي

المملكة العربية
السعودية



بحر عمان

سلطنة عمان

المملكة العربية السعودية

تقع الإمارات في قلب العالم القديم فهي حلقة وصل بين الشرق والغرب ومعبرا للرحلات الجوية بين آسيا وأوروبا وتشرف على مسطحيين مائيين الخليج العربي وبحر عمان مما جعل البحار مصدرا للرزق وازدهرت بها طرق التجارة البرية والبحرية ، واشتهرت في الحاضر بتجارة الترانزيت : حيث تستورد السلع وتعيد تصديرها إلى العالم .

وقامت على أرضها العديد من الحضارات ، والحضارة هي : كل جهد قام به الإنسان لتحسين ظروف حياته . ومن الحضارات التي ظهرت بالإمارات (ماجان في الإمارات وعمان ، أم النار في أبو ظبي ، ملوखा في الشارقة)

نشاط ختامي

مرحباً يا أصدقائي .. أحتاج منكم مساعدة عاجلة، يجب عليّ أن أعبر هذا النهر
لأصل إلى الضفة الأخرى، فهل بالإمكان أن تساعدوني على فعل ذلك، ربما
نحتاج جسراً لأنني لا أجيد السباحة .

هيا لنبدأ



منطقة من اليابسة محاطة بالماء من ثلاث جهات.

الجزيرة

شبة الجزيرة



إشتهرت الإمارات في الحاضر بتجارة

الذهب

الترانزيت



من الحضارات التي ظهرت على أرض الإمارات

وادي النيل

أم النار

بلاد الرافدين

كيف سيعبر إلى الضفة الأخرى.

هنا سنحتاج
إلى بناء الجسر



من النتائج المترتبة على الموقع الجغرافي الهام للإمارات

أنها أصبحت حلقة وصل بين الشرق والغرب ، ومعبرا للرحلات بين آسيا وأوروبا

توفرت فيها الطيور والمياه العذبة والطائرات




ماذا يحدث لو لم تشرف الإمارات على مسطحات مائية

جميع ما سبق

أصبحت دولة حبيسة

لا تتوفر فيها حرفة الصيد والغوص على اللؤلؤ



تقع الإمارات بين دائرتي عرض ، 22 شمالا كم دائرة عرض تقع عليها الإمارات

26.5

48.5

هيا بسرعة




تقع دولة الإمارات العربية المتحدة في

أوروبا

أفريقيا

آسيا



يحد دولة الإمارات شمالاً

بحر عمان

الخليج العربي


بقي القليل فقط



حاكم دولة الإمارات العربية المتحدة

سمو الشيخ زايد آل نهيان رحمه الله

سمو الشيخ خليفة بن زايد آل نهيان حفظه
الله



مجموع عدد خطوط الطول ...

360

180



شكراً لكم يا أصدقائي





انتهت الحصة