



اليوم : الثلاثاء السعيد

التاريخ: 29/9/2020

الحصة : الثانية

صفي الرابع الأساسي 3

المادة : التربية الوطنية





نبدأ الآن بتسجيل
الحضور والغياب
يا أبطال الرائعين



ملتزمون يا وطن



قواعد التعلم الذكي



أنتبه للدرس جيدا

1



التفاعل الإيجابي

2



الالتزام بالوقت المحدد
للحصة

3



عدم فتح الكاميرا أو
تصوير الشاشة

4



عدم فتح المايكرفون
بدون إذن المعلمة

5



أستاذن قبل الإجابة

6

حتى أحمي نفسي من فيروس كورونا

تصميم ورسم
لمايكل محمد المرزوقي



أضع كمامة



أتحرك والعب



أتناول طعامًا صحيًا

الصحيح



أن أغتسل



أغسل يدي بالصابون

الخطأ



ألمس عيني



ألمس أنفي



أعطي دون منديل

وقت المراجعة



أين تقع بلادي بالنسبة لقارات العالم القديم ؟
في الوسط

ما اسم التجارة التي تزدهر في بلادي وتعتمد على شراء السلع ثم إعادة بيعها إلى دول العالم ؟

تجارة الترانزيت

توجد في بلادي حضارات كثيرة ، اذكر واحدا منها:


ماجان - ملوखा - أم النار



هيا يا بطل تتبع الحروف المتناثرة على طريق المدرسة حتى نصل لعنوان درسنا اليوم



طبيعة بلادى (1)



نواتج التعلم

- 1- استنتاج مفهوم التضاريس – الجبال – الوادي
- 2- التعرف على أشكال التضاريس المختلفة في
بلادي الإمارات
- 3- تحديد أماكن توزع الجبال في دولة الإمارات
العربية المتحدة

الجبال



الصحراء



البحار

السهول



الجزر



لنُشاهدَ هذا الفيديو، هيا نستمتع معًا أيُّها
الصَّغار:

بِصَمِّ بَطْرِي مِنَ



الجبيل

عرض

تَتَجَلَّى عَظَمَةُ الْخَالِقِ جَلًّا جَلِيلَهُ فِي كُلِّ مَا حَوَّلْنَا، وَمِنْ ذَلِكَ الْجِبَالِ، وَكَيْفَ أَرْسَاهَا اللَّهُ تَعَالَى
عَلَى الْأَرْضِ، فَالْجِبَالُ تُعَدُّ كُتْلَةً صَخْمَةً مِنَ الصُّخُورِ الْمُزْتَفِئَةِ عَنِ سَطْحِ الْأَرْضِ ذَاتَ قِمَمٍ
تَتَمَيَّزُ بِالْحِدَّةِ وَالِارْتِفَاعِ.



ما هو أشكال الجبال ولونها على الخريطة؟

■ أَلْحِظْ الصُّوْرَ، وَاسْتَكْشِفْ أَشْكَالَ الْجِبَالِ حَسَبَ الِارْتِفَاعِ:

قِمَّةُ الْجَبَلِ ←

جِبَالٌ مُرْتَفِعَةٌ

جِبَالٌ مُتَوَسِّطَةٌ الِارْتِفَاعِ

جِبَالٌ قَلِيلَةٌ الِارْتِفَاعِ



في أي جهة تتركز الجبال
في بلادي يا أبطال؟



الخارطة الطبيعية

الارتفاع بالمتراً


منطقة مرتفعة	{	1800-0 متر
منطقة متوسطة	{	1000-500 م
منطقة منخفضة	{	200-0 م
منطقة منخفضة	{	100-0 م
أودية	{	0-100 م

المملكة العربية السعودية



تتركز الجبال في المنطقة الشرقية في بلادي





جبل جيس



توزيع الجبال:

تتركز جبال دولة الإمارات العربية المتحدة في المنطقة الشرقية، من شعم شمالاً إلى العين جنوباً، وتنقسم الجبال إلى قسمين:

1- القسم الشمالي: يمتد بمحاذاة سهل الشرفي المطل على بحر عمان.

2- القسم الجنوبي: يشمل المناطق الجبلية متوسطة الارتفاع تنتهي قرب مدينة العين.

أعلى قمة في جبال دولة الإمارات العربية المتحدة قمة جبل جيس في إمارة رأس الخيمة، كما تتخلل هذه الجبال العديد من الأودية، وهي أراضٍ طولية منخفضة تحيطها أراضٍ مرتفعة من الجوانب مثل وادي حام والسيجي.



تتقسم الجبال في الإمارات إلى :

1- جبال القسم الشمالي

في رأس الخيمة والساحل الشرقي

أعلى قمة من (جبل جيس)

2- جبال القسم الجنوبي

في العين

(جبل حفيت)



تخلل الجبال العديد من الأودية وهي : أراض طولية منخفضة تحيطها أراض مرتفعة من الجوانب



فكر معي يا بطل
ماهي أهمية الجبال



ماذا يحدث لو لم يكن هناك جبال
في دولة الإمارات العربية
المتحدة؟



﴿ أَلَمْ نَجْعَلِ الْأَرْضَ مِهْدًا ﴿٦﴾ وَالْجِبَالَ أَوْتَادًا ﴾

Have We not made the earth as a wide
expanse, And the mountains as pegs?



الأهمية الإقتصادية للجبال

تخزين مياه الأمطار.



تزودنا بالمواد الأولية للبناء



ازدهار السياحة في دولة الإمارات



انتشار الزراعة في القرى الجبلية




تسلق الجبال




الأهمية الاقتصادية للجبال

الأهمية الاقتصادية للجبال:

1- تزودنا بالمواد الأولية مثل أحجار البناء.



2- تخزين مياه الأمطار.



3- انتشار الزراعة في القرى الجبلية.

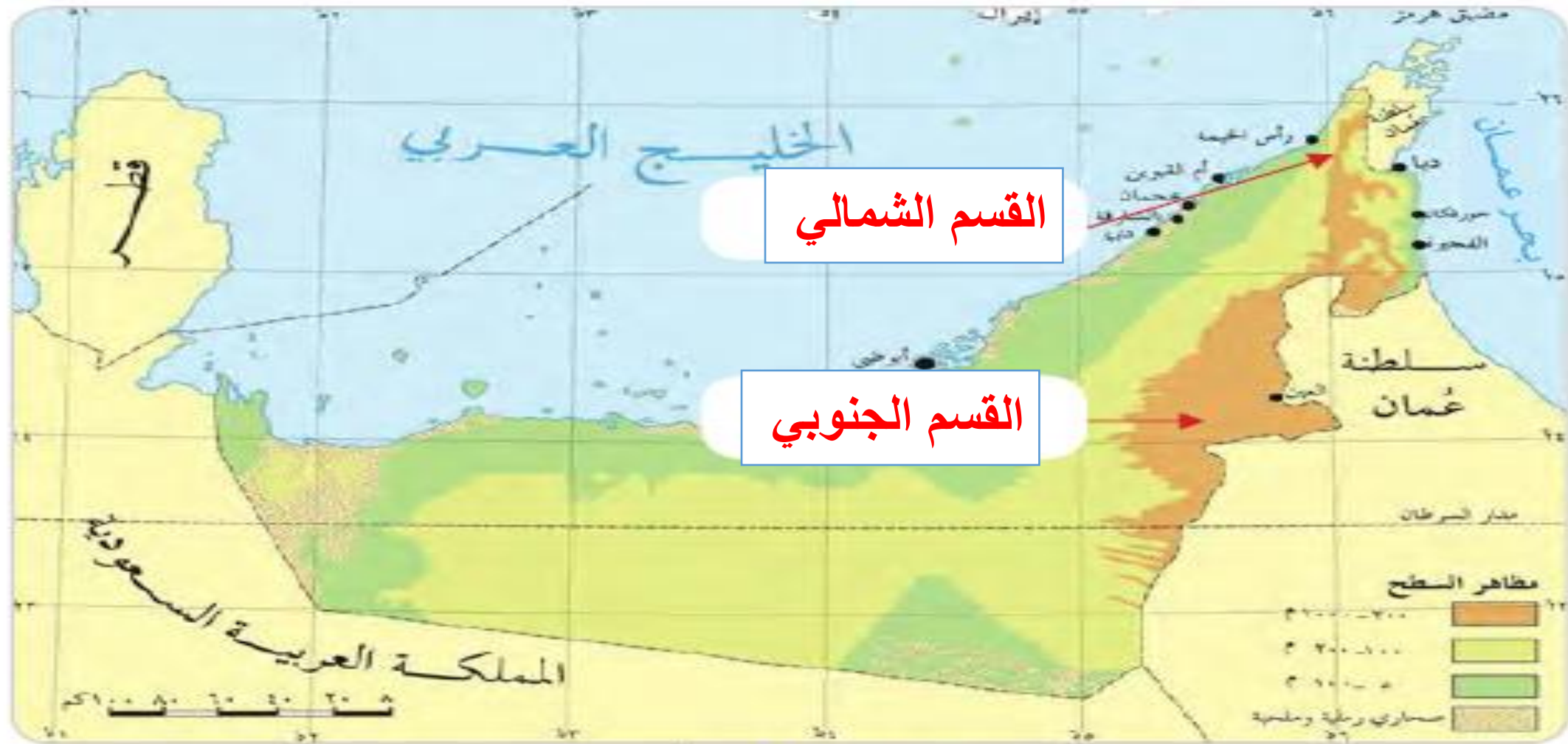


4- ازدهار السياحة في دولة الإمارات العربية المتحدة.



أَلَا حِظُّ وَأَحَدٌ

- أَضْعُ مُسَمِّيَاتِ الْجِبَالِ فِي مَوَاقِعِهَا الْمُنَاسِبِ عَلَى الْخَرِيطَةِ: [الْقِسْمُ الشَّمَالِيُّ - الْقِسْمُ الْجَنُوبِيُّ]



تضاريس دولة الإمارات العربية المتحدة



- اَتَأْمَلُ الصَّوْرَةَ، ثُمَّ أُجِيبُ عَمَّا يَأْتِي:

• وَجَّهْ نَصِيحَةً لِأَصْدِقَائِكَ عِنْدَ جَرَيَانِ الْأُودِيَةِ؟

لا تُعبر الوادي
وقف بعيدا

• أضع إشارة (✓) على الصورة الأكثر فائدة للدولة عن أهمية الجبال من وجهة نظري الشخصية مع ذكر السبب.



• السَّبَبُ:

جميعها مهمة لأن الجبال تحتزن
مياه الأمطار ونستخرج منها
الصخور وتساعد على قيام الزراعة
وازدهار السياحة .



حان وقت المرح
يا أبطالى الرائعين



حان الآن

وقت النشاط



هَيَّا أَيَّهَا الْأَبْطَال

فِي أَيِّ إِمَارَةٍ يُوجَدُ **جَبَلُ جَيْسٍ** ???



الهدف: أن يملأ الفراغ بالكلام المناسب .
المعيار: كتابة الكلمات الصّحيحة بالمكان المناسب

أُكْمِلُ العِبَارَاتِ الآتِيَةَ بِالتَّكْمِلَةِ المُنَاسِبَةِ:

1- أَرْضٍ طَوِيلَةٍ تُحِيطُهَا الجِبَالُ مِنَ الجَوَانِبِ..... **الوادي**.....

2- هِيَ كُتْلَةٌ كَبِيرَةٌ مِنَ الصَّخُورِ لَهَا قِمَّةٌ حَادَّةٌ وَمُرْتَفَعَةٌ..... **الجبال**.....

3- أَعْلَى قِمَّةٍ جَبَلِيَّةٍ فِي دَوْلَةِ الإِمَارَاتِ..... **جَبَل جَيْس**.....

اضغط على الرّابط،
لتقوم بحلّ الأنشطة المطلوبة وتقييم نفسك. (مهم)

[https://docs.google.com/forms/d/1D
E-
PNijx3O_L2u9GYtdFjSgR2Pmz6d2
eu0esMubwhaU/edit?usp=sharing](https://docs.google.com/forms/d/1D
E-
PNijx3O_L2u9GYtdFjSgR2Pmz6d2
eu0esMubwhaU/edit?usp=sharing)




حان الآن

وقت النشاط



إعداد: ليال عزّام



هَيَّا أَيَّهَا الْأَبْطَال

فِي أَيِّ إِمَارَةٍ يُوجَدُ **جَبَل جَيْس** ???



رَأْس
الخَيْمَة



الهدف: أن يملأ الفراغ بالكلام المناسب.

إعداد: ليال عزّام **المعيار:** كتابة الكلمات الصّحيحة بالمكان المناسب

أكمل العبارات الآتية بالتكملة المناسبة:

1- أراضٍ طويلة تُحيطُها الجبال من الجوانب **الوادي**

2- هي كتلة كبيرة من الصّخور لها قِمّة حادّة ومُرتفعة **الجبال**

3- أعلى قِمّة جبليّة في دولة الإمارات **جَبَل جيس**



الهدف: أن يملأ الفراغ بالكلام المناسب.
إعداد: ليال عزّام **المعيار:** كتابة الكلمات الصّحيحة بالمكان المناسب

اضغط على الرّابط،
لتقوم بحلّ الأنشطة المطلوبة وتقييم نفسك. (مهم)

https://docs.google.com/forms/d/1DE-PNiJx3O_L2u9GYtdFjSgR2Pmz6d2eu0esMubwhaU/edit?usp=sharing



إعداد: ليال عزّام

هيا يا أبطال استعدّوا سوف نختبر معلوماتنا في درسنا اليوم من خلال مسابقة **quizizz**

<https://quizizz.com/join>



نراكم في الحصة القادمة



مع السلسلة